

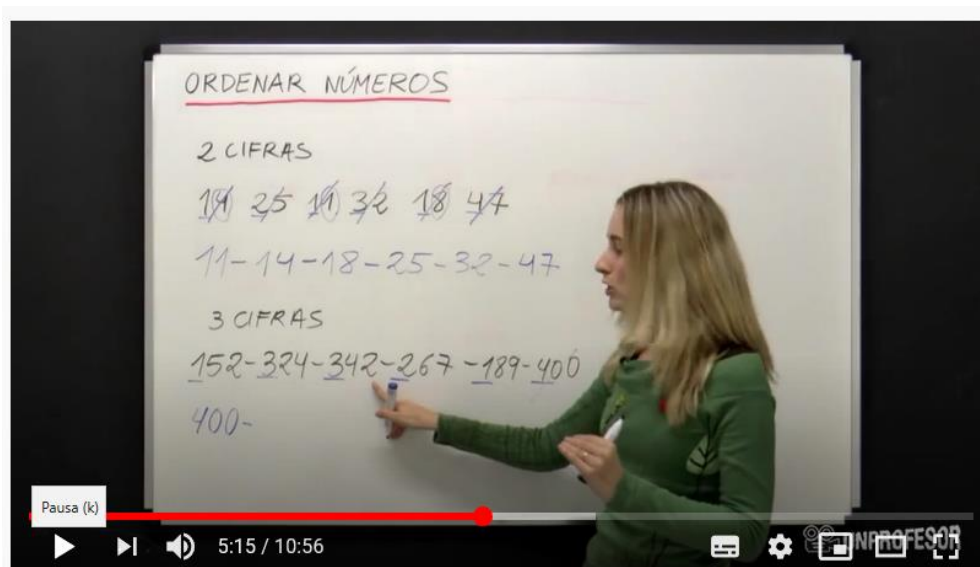
Asignatura: **Educación Matemáticas**
Profesor: Evelyn Maturana C.
Curso: Laboral 3 E
Objetivo: Comparar y ordenar números naturales.
Contenido: Numeración
Habilidad: Relacionar el sentido ordinal y cardinal del número, representación de números y cantidades.
Guía de trabajo: N° 7 (del lunes 11 al 15 de mayo)

Inicio...

Vamos a dar inicio para seguir ordenando números hasta el 1.000, de esta manera realizaremos diferentes actividades, que nos permitirán lograr un manejo eficiente y útil de los números en nuestra vida cotidiana.

1) observa el siguiente video en Youtube que te explica una estrategia para ordenar números, copia el URL

URL: <https://www.youtube.com/watch?v=NcAIFTDeit8>



2) En el cuadro que está a continuación encierra los números que son **mayores** de 20

4	35	7	78	11	44	2
	100	86	65	15	19	

En el cuadro que está a continuación encierra los números que son mayores de 100

54	235	17	178	11	
444	52	100	86	165	115

En el cuadro que está a continuación encierra los números que son mayores de 300

334	435	77	178	311	
344	2	100	486	65	150

En el cuadro que está a continuación encierra los números que son mayores de 500

40	535	77	678	811	
441	500	86	265	315	519

3) En el cuadro que está a continuación encierra los números que son **menores** de 20

4	35	7	78	11	44	2
	100	86	65	15	19	

En el cuadro que está a continuación encierra los números que son menores de 100

54	235	17	178	11	
444	52	100	86	165	115

En el cuadro que está a continuación encierra los números que son menores de 300

334	435	77	178	311	
344	2	100	486	65	150

En el cuadro que está a continuación encierra los números que son menores de 500

40	535	77	678	811	
441	500	86	265	315	519

4) Observa el siguiente video en YouTube que te explica cómo realizar una secuencia, pega el URL

URL: <https://www.youtube.com/watch?v=3yyHrrKmzRE>



5) Completa las siguientes secuencias numéricas ascendentes.

155	156			159	
-----	-----	--	--	-----	--

200	210		230		
-----	-----	--	-----	--	--

305	310	315			
-----	-----	-----	--	--	--

200	250		350		450
-----	-----	--	-----	--	-----

400	402	404			410
-----	-----	-----	--	--	-----

500 504 512 520

 500 700 800

6) Completa las siguientes secuencias numéricas descendentes.

20 19 17 16

200 190 170

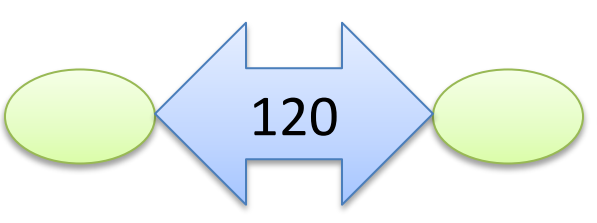

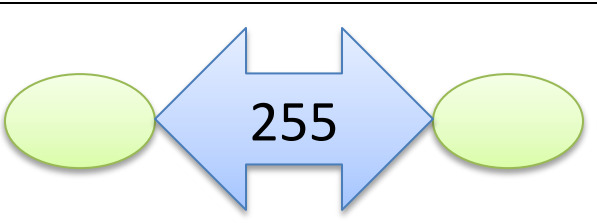
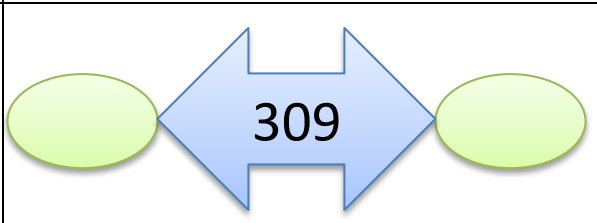
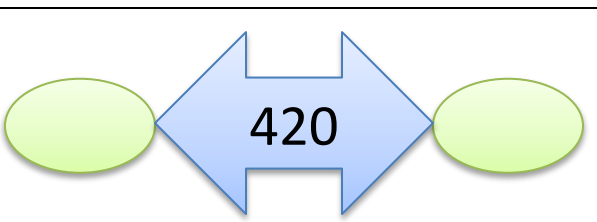
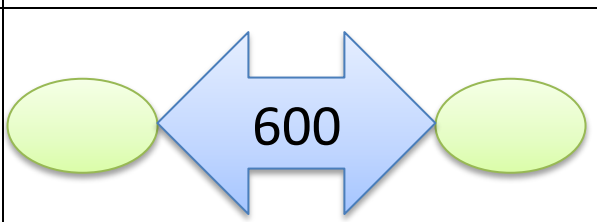

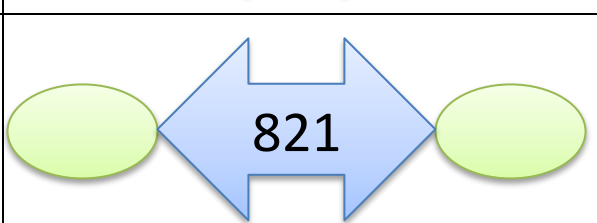
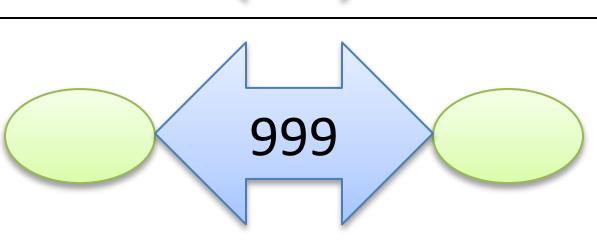
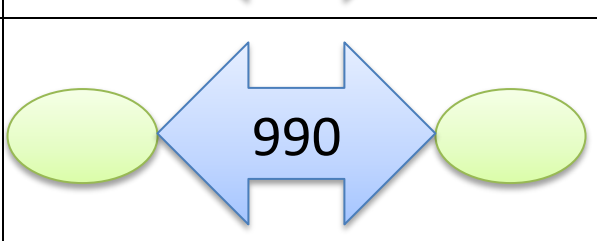
300 295 290

800 850 750 650

900 880 860 800





















7) Ahora anota el antecesor y el sucesor de cada número.

Igual	Mayor que	Menor que
=	>	<
5 = 5	5 > 4	5 < 6

8) Anota el signo mayor que , igual  o menor que 

145  180	165  132	145  154
202  101	181  181	221  145
854  480	196  169	155  223
576  780	905  980	533  999
886  472	609  423	810  810
766  555	337  337	100  109

8) Ordena los siguientes números de menor a mayor.

178 147 170 188 123 116
102 190 178 121

_____ / _____ / _____ / _____ / _____
_____ / _____ / _____ / _____ / _____

223 267 290 257 234
232 225 232 278 223

_____ / _____ / _____ / _____ / _____
_____ / _____ / _____ / _____ / _____

337 384 379 354 300 324
345 371 366 378

_____ / _____ / _____ / _____ / _____
_____ / _____ / _____ / _____ / _____

9) Ordena los siguientes números de mayor a menor.

978	971	970	900	957
967	913	902	990	978

_____ / _____ / _____ / _____ / _____
_____ / _____ / _____ / _____ / _____

834	877	880	857	834
873	885	822	878	803

_____ / _____ / _____ / _____ / _____
_____ / _____ / _____ / _____ / _____

778	784	789	766	700	778
724	771	766	778		

_____ / _____ / _____ / _____ / _____
_____ / _____ / _____ / _____ / _____

Final... Para terminar copia el nombre de los siguientes números.

1: uno
2: dos
3: tres
4: cuatro
5: cinco
6: seis
7: siete
8: ocho
9: nueve

1:
2:
3:
4:
5:
6:
7:
8:
9:

10: diez
20: veinte
30: treinta
40: cuarenta
50: cincuenta
60: sesenta
70: setenta
80: ochenta
90: noventa

10:
20:
30:
40:
50:
60:
70:
80:
90:

100: cien
200: doscientos
300: trescientos
400:
cuatrocientos
500: quinientos
600: seiscientos
700: setecientos
800:
ochocientos
900:
novecientos

100:
200:
300:
400:
cuat
500:
600:
700:
800:
ocho
900:
nove