



Colegio
Ricardo Olea
CORMUN RANCAGUA

Asignatura: Matemáticas

Docente: Aurora Ortega Herrera

Curso: Laboral 3 A

Objetivo de Aprendizaje: Resolver adiciones con fracciones del mismo denominador

Contenido: Fracciones

Habilidad: Resolver de manera pictórica y simbólica adiciones de fracciones con igual denominador

Semana N°: 23 (lunes 07 al viernes 11 de septiembre)

HORARIO DE CLASES ONLINE SEMANAL

LUNES	MARTES	MIÉRCOLES	JUEVES	VIERNES
SOCIAL	LENGUAJE	LIBRE Reuniones administrativas	MATEMÁTICAS	VOCACIONAL
10:30 A 11:30	10:30 A 11:30	LIBRE Reuniones administrativas	10:30 A 11:30	10:30 A 11:30
			EDUCACIÓN FÍSICA 12:00 A 12:45	

Recuerda que el recuadro destacado con color corresponde a la asignatura a realizar ese día, el link de la clase se enviará 5 minutos antes de la hora señalada al correo y también por WhatsApp, debes estar atento.



Colegio
Ricardo Olea
CORMUN RANCAGUA

¿Qué aprenderás en la clase?

➤ Objetivo:

Resolver adiciones con fracciones del mismo denominador

➤ Habilidades que desarrollarás:




Resolver de manera pictórica y simbólica adiciones de fracciones con igual denominador




Colegio
Ricardo Olea
CORMUN RANCAGUA

¿Cómo crees que
podemos sumar
fracciones?

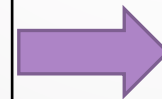


5



NUMERADOR

6



DENOMINADOR

RECORDEMOS



Adiciones de fracciones de igual denominador

Para sumar fracciones de igual denominador, se resuelve de la siguiente manera:

- Se suman los numeradores y se conserva el mismo denominador.


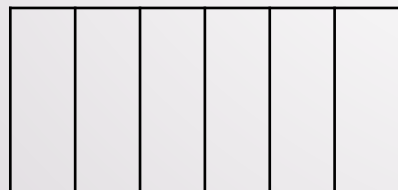
$$\frac{5}{6}$$

+

$$\frac{3}{6}$$

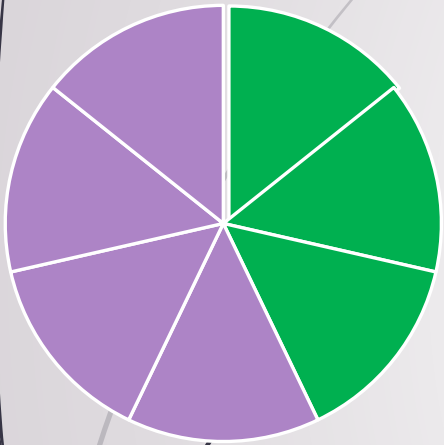
=

$$\frac{\quad}{6}$$

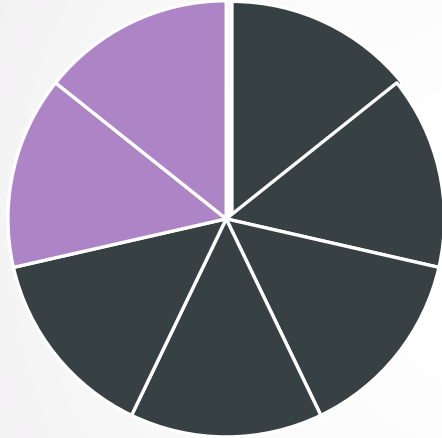




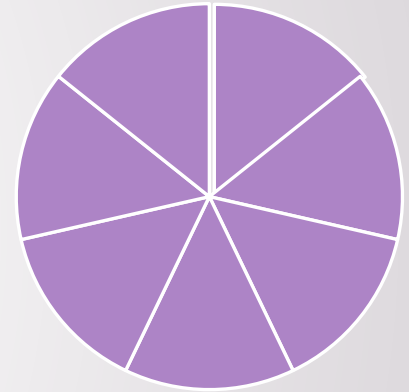
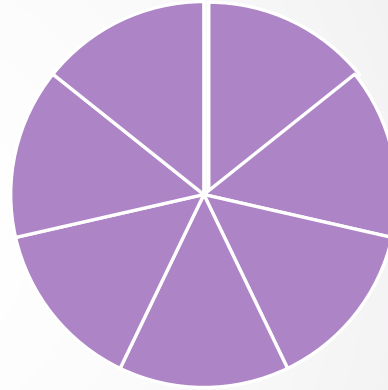
Practicemos: Completa la fracción que corresponde según la imagen y luego representa y resuelve la adición



+



=



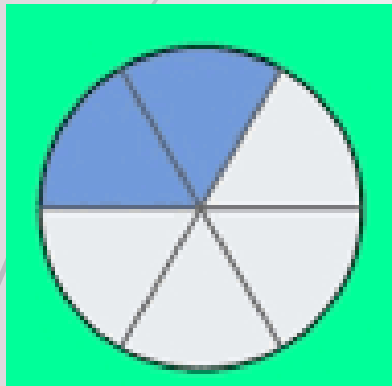
+

=

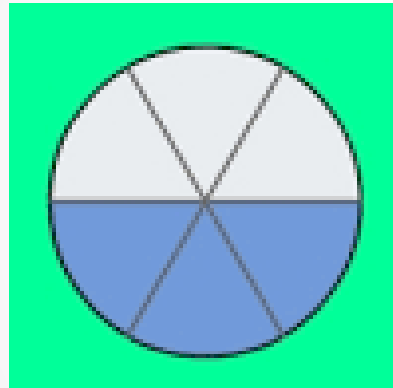


Colegio
Ricardo Olea
CORMUN RANCAGUA

Practicemos: Completa la fracción que corresponde según la imagen y luego representa y resuelve la adición



+



+



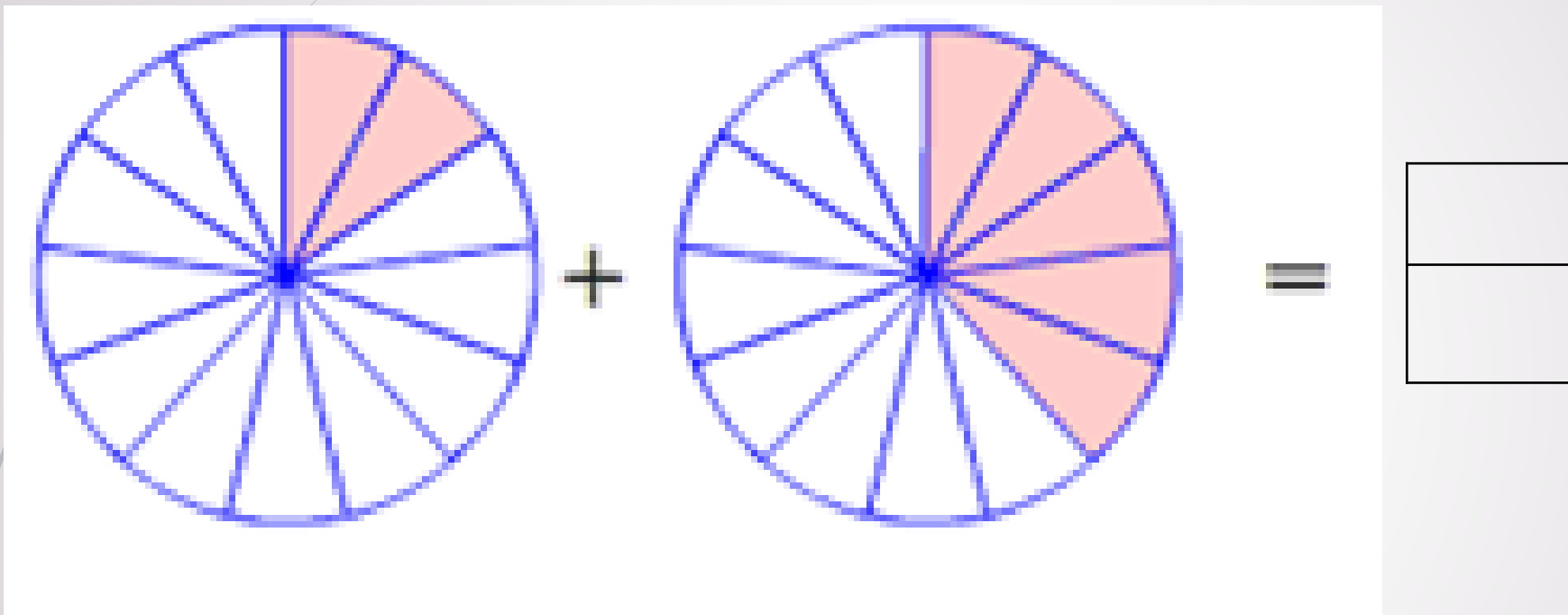
=





Colegio
Ricardo Olea
CORMUN RANCAGUA

Practicemos: Completa la fracción que corresponde según la imagen y luego representa y resuelve la adición

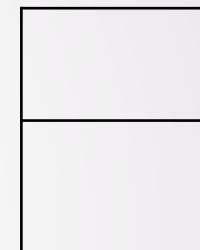
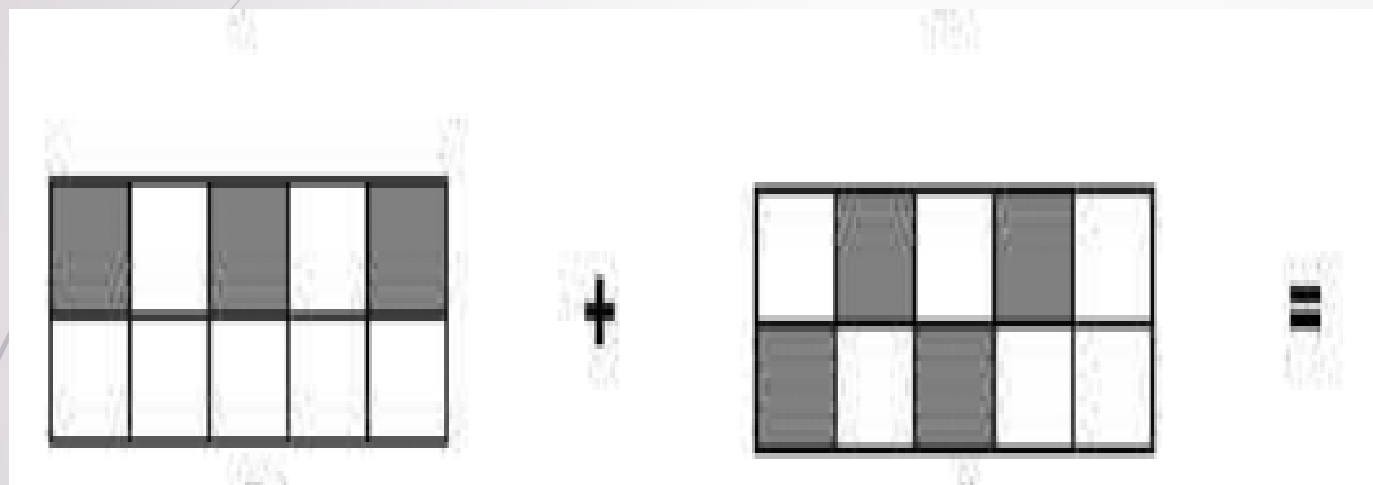


+




Colegio
Ricardo Olea
CORMUN RANCAGUA

Practiquemos: Completa la fracción que corresponde según la imagen y luego representa y resuelve la adición



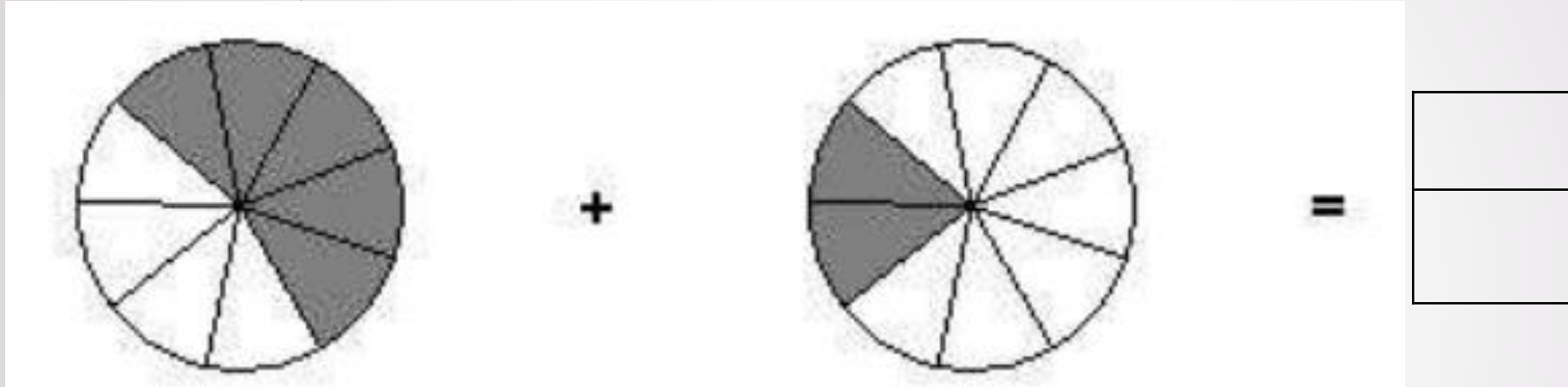
+





Colegio
Ricardo Olea
CORMUN RANCAGUA

Practicemos: Completa la fracción que corresponde según la imagen y luego representa y resuelve la adición

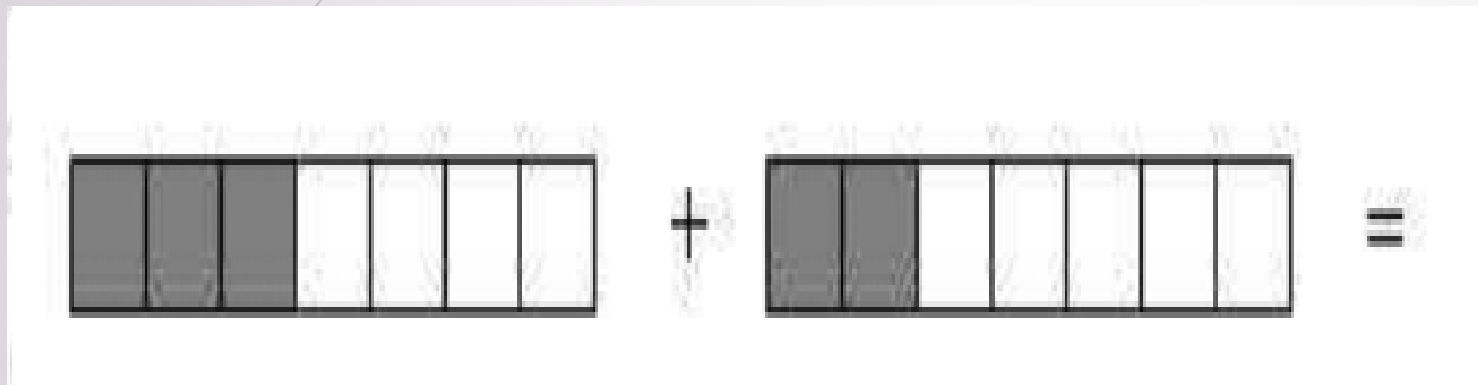


+



Colegio
Ricardo Olea
CORMUN RANCAGUA

Practiquemos: Completa la fracción que corresponde según la imagen y luego representa y resuelve la adición




+






Colegio
Ricardo Olea
CORMUN RANCAGUA

Practicemos: Completa la fracción que corresponde según la imagen y luego representa y resuelve la adición



+



=

+



Colegio
Ricardo Olea
CORMUN RANCAGUA

Reflexión



¿Qué aprendiste hoy?

¿Cómo se resolvía las adiciones de fracciones con igual denominador?



Pauta de evaluación

Indicadores	Logrado	Medianamente logrado	No logrado
Comprende cómo se suman las fracciones de igual denominador			
De la fracción pictórica la representa a la simbólica			
De la fracción simbólica la representa a la pictórica			
Resuelve adiciones de fracciones con igual denominador			
Participa de la clase			