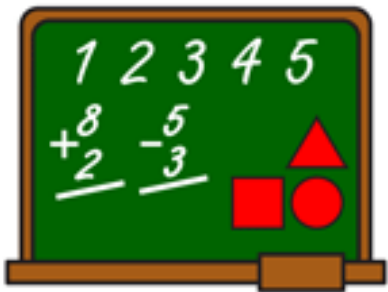




Colegio
Ricardo Olea
CORMUN RANCAGUA



Las Centenas



ASIGNATURA: MATEMATICAS
Profesora Jefe: María José Díaz
Curso: 2 A Laboral

Recordatorio




Cuando escribimos



un número 1 2 3

EJEMPLO




1 4 9

C D U

CENTENA

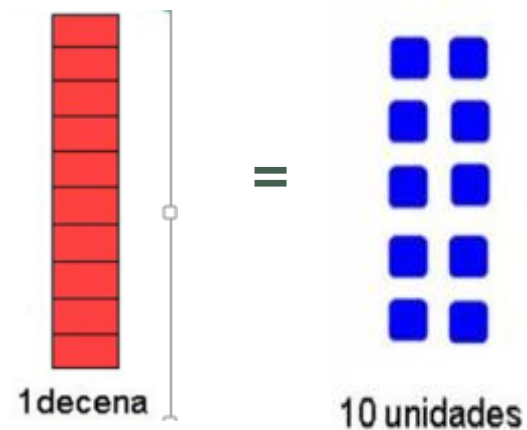
La centena equivale a 10 decenas o, 100 unidades.



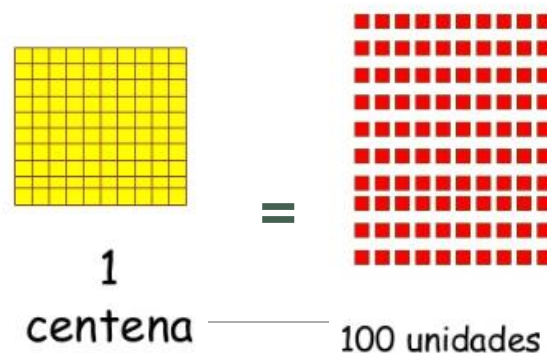
1 = CENTENA

LA CENTENA SE RELACIONA CON LA UNIDAD Y DECENA

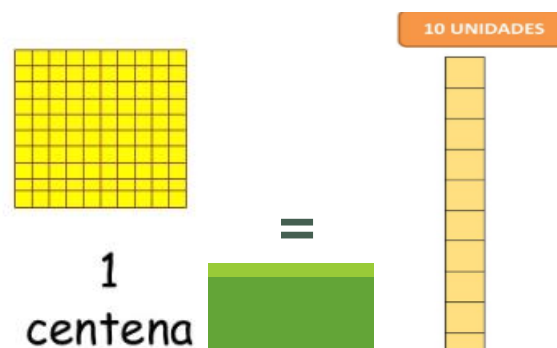
1 DECENA ES IGUAL A 10 UNIDADES



1 CENTENA ES IGUAL A 100 UNIDADES



1 CENTENA ES IGUAL A 10 DECENAS




Representación de la Centena




EJEMPLOS




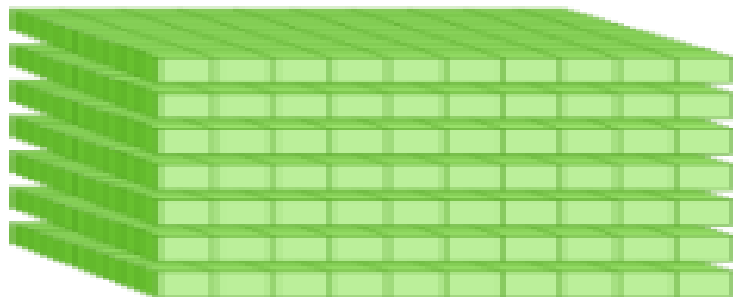
100 CENTENAS



30 DECENAS



5 UNIDADES



ASIGNATURA: MATEMATICAS

PROFESORA JEFE: MARÍA JOSÉ DÍAZ

CURSO: 2 A LABORAL

OBJETIVO DE APRENDIZAJE: Identificar y describir las unidades, decenas y centenas en números del 50 al 500.

HABILIDADES: Observar y describir los números, según su valor posicional.

CONTENIDO: La Centena

INSTRUCCIONES: Pincha aquí para conocer como debes evaluar tu desempeño en las actividades.

<https://www.youtube.com/watch?v=6Tm-5G5GaC8>. De acuerdo a lo observado **AHORA** y en las clases anteriores (Semana 2, 3 y 4) realiza las siguientes actividades, con apoyo de tu cuaderno.

SEMANA 5 : 27 AL 30 DE ABRIL


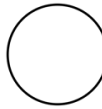


1. Identifica la posición del número subrayado, sigue el ejemplo: 444= 400 Centenas.

- 129 - 229 - 458 - 342 - 476 - 500

2. Dibuja  la letra que corresponda en el numero subrayado , según sea centena, decena y unidad (C – D- U)

-178 - 321 - 388 - 409 - 268 - 139 - 432 - 198 - 201

3. Con apoyo de tu cuaderno  escribe el numero que contenga la centena y luego enciérralo con un circulo 

- 58 - 13 - 2 - 250 - 500 - 331 - 99 - 210 - 421

4. No olvides evaluar tu desempeño en esta actividad , pinchando aquí . <https://www.youtube.com/watch?v=6Tm-5G5GaC8>.

SOLUCIONARIO

Ejercicio 1:

- 129 : 9 Unidades
- 229 : 20 Decenas
- 458 : 400 Centenas
- 342 : 2 Unidades
- 476 : 400 Centenas
- 500 : 500 Centenas

Ejercicio 3:

- 58 :

- 13:

- 2 :

- 250 : 200

- 500 : 500

- 331 : 300

- 99 :

- 210: 200

- 421: 400