

SOLUCIONARIO

SEMANA N° 33

Asignatura: Matemáticas

ACTIVIDADES

1.- Ordene de menor a mayor valor las monedas, observa tus monedas que elaboraste y anota en tu cuaderno el valor de cada moneda, de menor a mayor.



\$10

\$50

\$100

\$500

2.- Ordene de mayor a menor las monedas del recuadro, observa tus monedas que elaboraste y anota en tu cuaderno el valor de cada moneda, de mayor a menor.



\$500

\$100

\$50

\$10

3.- Ordene de menor a mayor valor los billetes del recuadro, observa tus billetes que elaboraste y anota en tu cuaderno el valor de cada billete, de menor a mayor.



\$1000

\$2000

\$5000

\$10.000

\$20.000





4.- Ordene de mayor a menor valor los billetes del recuadro, observa tus billetes que elaboraste y anota en tu cuaderno el valor de cada billete, de mayor a menor.



\$20.000	\$10.000	\$5.000	\$2.000	\$1.000
----------	----------	---------	---------	---------


5.- Completa la siguiente tabla, indicando la cantidad de monedas de \$10, \$50 \$100 \$500 y billetes de \$1000, \$5000 que debe usar la niña para comprar los siguientes productos. *Recuerda apoyarte de tus monedas y billetes que elaboraste.*



PRECIOS	MONEDAS 50	MONEDAS \$100	MONEDAS \$500	BILLETES \$1000	BILLETES \$5000
Cuaderno \$ 850 	1 moneda de 50	3 monedas de 100	1 moneda de 500		
Mochila \$ 6700 		2 monedas de 100	1 moneda de 500	1 billete de 1.000	1 billete de 5.000
Estuche \$3250 	1 moneda de 50	2 monedas de 100		3 billetes de 1.000	
Caja de lápices \$1300 		3 monedas de 100		1 moneda de 1.000	



6. Melissa fue al supermercado y deberá cancelar la cantidad de **\$12.500** en productos. Rodee las monedas y billetes necesitará Melisa para pagar los productos.



ESTA ES LA CANTIDAD CORRECTA DE BILLETES Y MONEDAS.

