


SOLUCIONARIO

SEMANA N° 27

Asignatura: Matemáticas

ACTIVIDAD

1.- Escriba el valor de cada moneda en los recuadros.




2.- Rodee con un círculo la moneda que **NO** se utiliza en nuestro sistema monetario actual.



3.- Escriba la cantidad de dinero que representa cada recuadro



\$ 1300



\$ 300

4.- Dibuja y pinta cada billete y en tu cuaderno escribe el valor de cada billete en los recuadros.



\$ 1000



\$2000



\$5000




\$10.000



\$20.000

5.- Escriba la cantidad de dinero que representa los billetes de cada recuadro



\$ 8.000



\$ 21.000