

## SOLUCIONARIO

N° 19

**Asignatura:** Matemáticas

1. Este niño está un poco desordenado al realizar su rutina para desayunar. Expresa la acción que debe realizar ANTES Y DESPUES.



Antes (N°2)



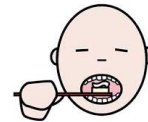
ANTES (N° 1)



Después (N°3)




Después (N°4)



Después (N°5)

2. Expresa verbalmente la imagen que no está ordenada, según la correcta secuencia. (ANTES- DESPUES)



La imagen que no esta **ORDENADA** es  porque **antes** de dormir, debo acostarme en la cama.

3. Ordena la secuencia de imágenes del 1 al 6 (expresando el ANTES Y DESPUES)



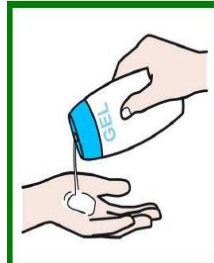
Después N° 4



Después N° 5



Antes N° 1



Después N° 3



Después N° 2



Después N°6

4. Ordena la secuencia de imágenes del 1 al 6 (expresando el ANTES Y DESPUES)



DESPUES N° 3



DESPUES N°5



DESPUES N°6



DESPUES N°2



DESPUES N°4



ANTES N°1

5. Observa las imágenes, y ayuda a este niño a organizar su rutina para ducharse, siguiendo la secuencia de ANTES Y DESPUES. Y enumera los recuadros del 1 al 5.




N° 3



N°1



N° 4



N° 2



N° 5