

## Educación Matemática

Profesora: Karen Jerez Carrasco

Curso : Laboral 1 C

Contenidos:

- Instrumentos de medida del tiempo: reloj analógico y digital.
- Medida: la hora y los minutos.

Objetivo de Aprendizaje: Resolver problemas de medición de tiempo usando concepto AM y PM.



Habilidades: Resolver problemas dados

Inicio:

- Recuerda que la clase anterior, hemos revisado un video sobre los tipos de relojes y como estos funcionan. Además, en los diferentes ejercicios debías leer la hora. Esta semana te invitare a resolver problemas relacionados con este tema.
- Antes de empezar a trabajar anota en un cuaderno o en la guía impresa la hora en que inicias y finalizas la tarea.

Hora de inicio de la tarea		Hora de finalización de la tarea	
----------------------------	--	----------------------------------	--

Desarrollo: Observa el siguiente niño y lee junto a un adulto lo que está pensando.



### Actividad 1.

Escribe la hora con el abreviado AM o PM, según corresponda.

a) Anota la hora en que Diego llega a la casa de su abuelita.



b) Si él estuvo 3 horas y media en la casa de su abuelita, ¿a qué hora se fue?

c) Él se demoró 30 minutos en llegar a su casa, ¿a qué hora llega?

d) Luego, estudia 2 horas y media, ¿a qué hora termina de estudiar?


### Actividad 2.

¿Cuánto tiempo ha transcurrido entre ambas horas?



Respuesta.

horas.



Respuesta.

horas.

### Cierre:

- Revisa los resultados con un adulto en la hoja de corrección.
- ¿Te parecieron difíciles las actividades?
- Te invito desde hoy anotar la hora en que te levantas y te acuestas diariamente.

## Hoja de respuestas









Escribe la hora con el abreviado AM o PM, según corresponda.

a) Anota la hora en que Diego llega a la casa de su abuelita.

b) Si él estuvo 3 horas y media en la casa de su abuelita, ¿a qué hora se fue?

c) Él se demoró 30 minutos en llegar a su casa, ¿a qué hora llega?

d) Luego, estudia 2 horas y media, ¿a qué hora termina de estudiar?

a) 13:30 pm		
b) 17:00 pm		
c) 17:30 pm		
d) 20:00 pm		

¿Cuánto tiempo ha transcurrido entre ambas horas?



Respuesta.  horas.



Respuesta.  horas.

# EL RELOJ

Aguja pequeña:  
indica las  
horas



Aguja grande:  
indica los  
minutos

**1 hora = 60 minutos**

**media hora = 30 minutos**

**un cuarto de hora = 15 minutos**

**3 cuartos de hora = 45 minutos**

Para imprimir y practicar en la casa, si no puedes imprimir busca en tu casa un cartón y junto a un adulto copia las fichas y jueguen en familia.

## Fichas de Dominó con Relojes

