







Asignatura: Matemática	
Docente: Karen Jerez Carrasco	Curso: Laboral 1 C
Objetivo de Aprendizaje: Estimar y comparar medidas de peso (kilo y gramos).	
Contenido: Medición del peso (gramos, kilogramos)	
Habilidad: Estimar, comparar.	
Semana N°: 13 (lunes 22 al viernes de junio)	

Recuerda que la semana anterior aprendiste que la MASA (corresponde a la cantidad de materia que tiene un cuerpo (animal, persona o cosa) y para medirla las unidades de medidas más utilizada son el kilogramo (kg) y el gramo (g).

Ahora es el momento de desarrollar los siguientes ejercicios:

1

Encierre el objeto que pesa más en cada una de las filas.

	
	
	
Un kilo de arroz	Un kilo de plumas

Y de todas estas imágenes ¿Cuál crees que es el más pesado?

Para finalizar realiza la siguiente actividad:

2	Dibuje lo que se le indica en cada caso:	
1 objeto que pese más de un kilo	1 objeto que pese un kilo	
Un objeto que pese menos de un kilo	2 objetos que pesen lo mismo aprox.	