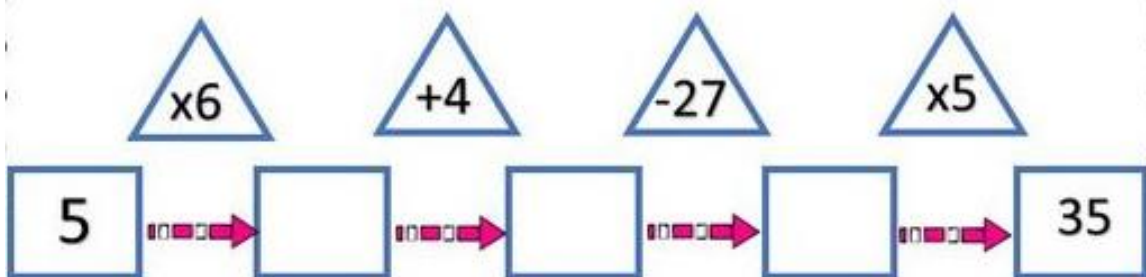
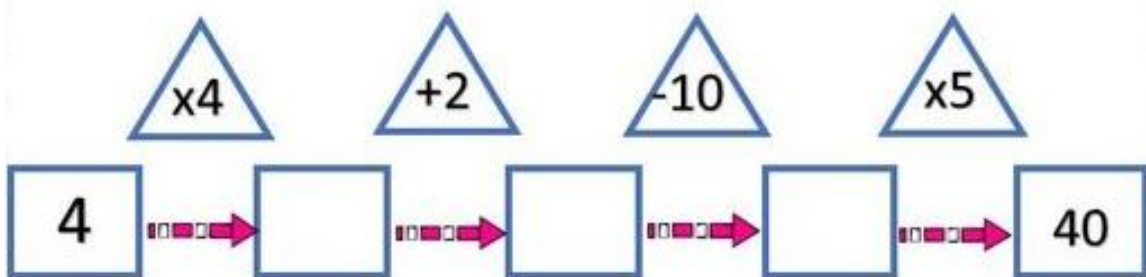
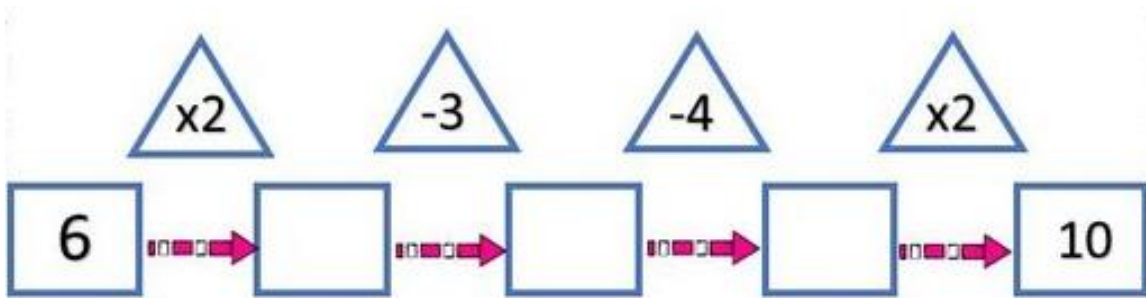


Asignatura: matemáticas	
Profesora: Olga Pavez Vidal	Curso: Laboral 1B
Objetivo: Aplicar estrategias de cálculo mental para resolver ejercicios de adición, sustracción y multiplicaciones	
Contenido: operatorias de adición, sustracción y multiplicación	
Habilidades: ejercitar y emplear operatorias conocidas	
Semana 13: Lunes 22 al viernes 26 de Junio del 2020	

Alumnos: esta semana van a resolver ejercicios matemáticos en donde deben aplicar las operatorias conocidas de adición, sustracción y multiplicación.

A TRABAJAR!!!

1-. Calcula, multiplica, suma y resta.



2-. Operaciones combinadas:

$$3 \times 4 + 5 - 2 =$$

$$2 + 6 \times 3 - 9 =$$

$$56 - 35 + 3 \times 5 =$$

$$2 \times 3 + 7 \times 3 =$$

$$4 \times 5 + 6 - 15 =$$

$$12 \times 3 - 5 + 3 =$$

$$9 \times 3 + 6 \times 4 =$$

3-. Calculo Mental:

número	+10	-10	+100	-100
310				
415				
520				
730				
840				
950				

4-.Completa el siguiente crucigrama matemático


				4	+	2	=						
				+				+					
		+		=	8				2				
		+		=				=					
		1				9				+		=	9
		=									+		
2	+		=										
						+							
						2							
						=							
		+		=	9						+		
		+									6		
		2									=		
		=				1				+	7	=	
					+								
		+	1	=					+				
					=				+				
						+		=	2				
					=								
						+		=	8				

Solucionario

La solución a los ejercicios que acabas de realizar los encontraras en la guía de la semana siguiente...

SOLUCIONARIO SEMANA 12



1-. Completa el siguiente cuadro usando billetes y monedas

TENGO	GASTO	ME QUEDA
		\$800
		\$250
		\$2.500
		\$ 10.000
		\$ 350
		\$30

2-. Lee las siguientes cantidades y escríbelas en números:

- a) Doscientos treinta y seis pesos: \$236
- b) Quinientos cuarenta y dos pesos: \$542**
- c) Mil quinientos pesos: \$ 1.500
- d) Tres mil pesos: \$3.000
- e) Ochocientos cincuenta y cinco pesos: \$855
- f) Cinco mil ochocientos pesos: \$ 5.800
- g) Cuatrocientos noventa y nueve pesos: \$499

3-. Escribe la cantidad de billetes y monedas que necesitaras para comprar los productos.

Ofertas!								
 \$15.990	1	1			1	4	1	4
 \$1.250				1		2	1	
 \$1.860				1	1	3	1	1
 \$980					1	4	1	3
 \$12.590	1		1		1		1	4