

Asignatura: matemáticas	
Profesora: Olga Pavez Vidal	Curso: Laboral 1B
Objetivo: Comprender el sistema monetario nacional	
Contenido: uso de monedas y billetes	
Habilidades: representar, resolución de problemas	
Semana 11: Lunes 8 al viernes 12 de Junio del 2020	


Alumnos: esta semana van a trabajar con el sistema monetario de nuestro país, es decir con monedas y billetes. Este aprendizaje lo van a trascender a las actividades cotidianas.

Aprendiendo a reconocer nuestro dinero

Monedas



Billetes:



ACTIVIDADES

1-. escribe con palabras la cantidad que representa cada moneda y billete

	Diez pesos
	
	
	
	
	
	
	
	

2-. Que puedes comprar con:










3-. Escribe la cantidad representada en monedas y billetes:

4-.Resuelve: Encierra la respuesta.

Diego y su hermano deciden comprar para su padre unos lentes y regalárselos para su cumpleaños. Acordaron que el precio del regalo no debe superar los \$15.000. Según el acuerdo tomado, ¿que modelo de lentes comprarán?

- a)  Precio : \$16 200
- b)  Precio : \$17 350
- c)  Precio : \$15 240
- d)  Precio : \$14 100



Solucionario

La solución a los ejercicios que acabas de realizar los encontraras en la guía de la semana siguiente...

SOLUCIONARIO SEMANA 10

1-. Completa los problemas con los números dados

1. Manuel gastó \$ 425 en dulces y \$ 170 en chocolates. Gastó en total \$ 590

2. Juan compró 143 láminas el lunes y el martes compró 299 más. En total compró 442 láminas

3. Marta le prestó \$ 270 a Rosita y al día siguiente \$ 715 más. Rosita le debe a Marta \$ 985

4. En un avión viajan 247 personas. Si en la escala siguiente suben 103 pasajeros más. Ahora el avión lleva 350 pasajeros

5. En un colegio de 546 alumnos, se integran, al iniciar el año escolar, 115 alumnos más. Ahora el colegio se compone de 661 alumnos

2-.RESUELVE

1.-En un gallinero hay 123 gallinas y 7 gallos y 30 pollitos. ¿Cuántas aves hay en total?

En total hay 160 aves



2.-En una caja hay 183 tornillos y 358 clavos. ¿Cuántos clavos más hay que tornillos?

Hay 175 mas clavos que tornillos



3.-En una bolsa hay 842 bolitas entre rojas y azules. Si 425 son rojas. ¿Cuántas son azules?






417 bolitas son azules








Resuelve :

Debes ir a la feria y traer las siguientes frutas.

- 1 kilo de plátano
- 4 kilos de manzanas
- 2 kilos de kiwi
- 5 kilos de naranjas
- 3 kilos de frutillas

				
\$1.500	\$ 500	\$ 800	\$ 2.000	\$750

Calcula el precio de lo que debes comprar

	Precio de 1 kilo cada fruta	Kilos que debo comprar de cada fruta	Operación: calculo el precio de los kilos que tengo que comprar de cada fruta	Precio total de cada fruta
	\$1.500	1	1.500	1.500
	\$500	2	1.000	1.000
	\$800	4	3.200	3.200
	\$750	5	3.750	3.750
	\$2.000	3	6.000	6.000
			Suma: Precio total de toda la compra	\$15.450