

Asignatura	CIENCIAS NATURALES		
Docente	Sandra Aguilera Lira		
curso	6° Básico A		
Objetivos	Reconocer , caracterizar las grandes zonas de Chile y sus paisajes (Norte Grande, Norte Chico, Zona Central, Zona Sur y Zona Austral), considerando ubicación, clima (temperatura y precipitaciones), relieve y recursos naturales, entre otros. H50A9		
Contenidos	Reconocer algunos paisajes de Chile según su ubicación en la zona norte, centro y sur del país, observando imágenes, utilizando diversas fuentes y un vocabulario geográfico adecuado		
Habilidades	Identificar . asociar , completar		
Semana	N° 25	Periodo	Lunes 27 al 02 Viernes de Octubre 2020.
Links video			

HORARIO ONLINE				
Lunes	Martes	Miércoles	Jueves	Viernes
Retroalimentación con profesora alumnos sin conexión online	Lenguaje - Inicial - Avanzado		Matemática	Naturaleza y /o Historia
	Ingles	Orientación	Educación Física	



Encierra en una circunferencia la alternativa correcta.

1. El relieve de Chile se caracteriza por:
 - a) Ser variado.
 - b) Ser muy parecido de una zona a otra.

2. Los climas existentes en nuestro país son:
 - a) Tropical, polar, frío y caluroso
 - b) Templado, seco y caluroso, polar.
 - c) Seco y caluroso, templado, húmedo y frío, pola.

3. Chile se divide geográficamente en:

- a) Tres zonas naturales que a su vez se subdividen formando cinco zonas.
- b) Cuatro zonas naturales.



4. La zona Norte se caracteriza por tener un clima:

- a) Seco y caluroso.
- b) Templado y seco.

5. La zona austral de nuestro país tiene un relieve que presenta características especiales porque:

- a) Presenta un verdadero laberinto de montañas, islas, ríos, fiordos y canales
- b) Presenta el desierto más árido del mundo.



6. La zona central cuenta con una vegetación variada y abundante debido a:

- a) Al tipo de fauna ya que es muy variada.
- b) Al tipo de clima que presenta condiciones climáticas más moderadas.

7. La zona norte se subdivide en:

- a) Zona austral y norte grande.
- b) Norte grande y norte chico.



8. El dibujo pertenece a la flora de la zona:

- a) Norte
- b) Central

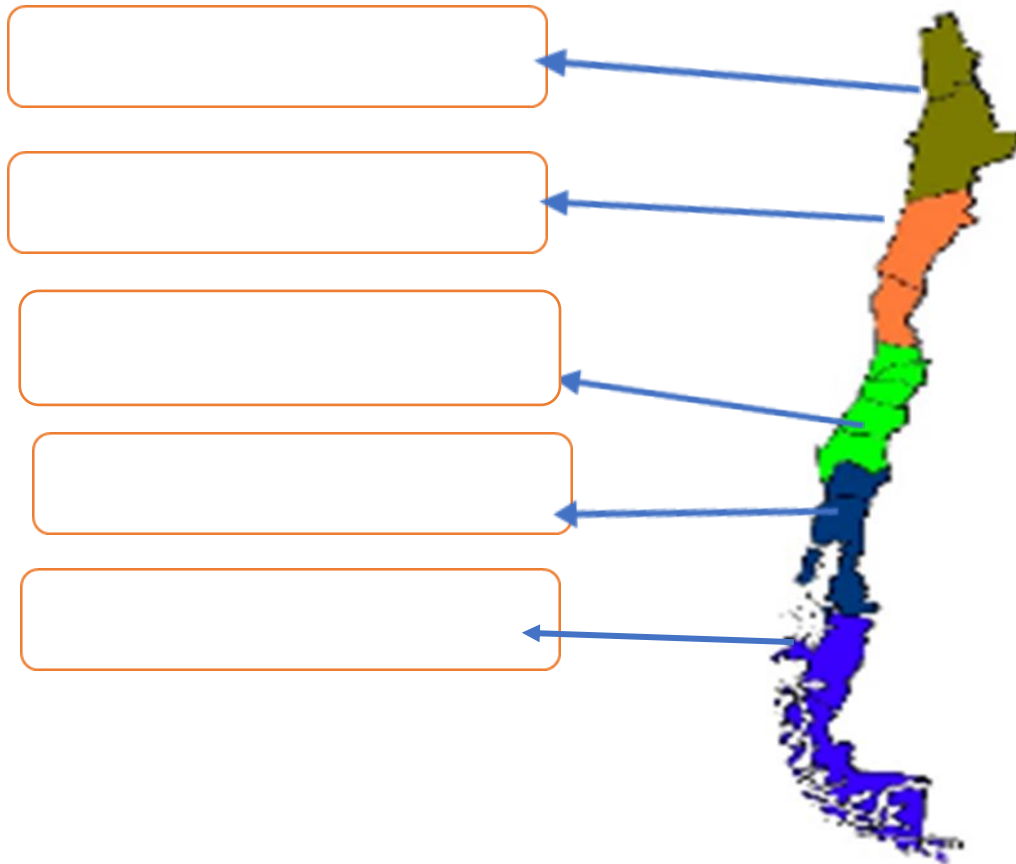


9. El dibujo pertenece a la fauna de la zona:

- a) Norte
- b) Sur



En el mapa escribe las 5 zonas naturales de Chile



Completa las siguientes aseveraciones.

Chile se encuentra ubicada en el continente _____

Chile se divide en _____ grandes _____

La Capital de Chile es _____

Chile se divide en _____ regiones.

Asocia cada concepto con su definición.

Fauna

Se refiere a las temperaturas, humedad y precipitaciones o lluvias de un lugar . Puede ser .

El clima

Se refiere al tipo de flores , es decir , de plantas que hay en un lugar . Puede ser , escasa , moderada y abundante , dependiendo de las condiciones del clima.







Flora

Se refiere a las especies de animales que habitan un lugar . Algunos ejemplo de elementos

Relieve

Se refiere a las formas y altura de la superficie de un territorio . Pueden ser planicies , litorales , valles cerros , montañas , volcanes u otros

Lee cada pregunta y coméntala con tu familia.
Esto te ayudará a ver cómo está tu trabajo y qué aspectos debes mejorar...

Indicadores de autoevaluación		Si	No
	Leo atentamente cada instrucción y pregunta		
	Me detuve a pensar cada respuesta		
	Pregunté cuando tuve dudas		
	Persevere hasta terminar mi tarea		
	Inicie y termine la tarea en el tiempo asignado		
	Deba mejorar mi desempeño en las tareas al hogar		



Éxito en tu tarea

