

Asignatura	Matemática		
Docente	Sandra Aguilera Lira		
Curso	6° Básico		
Objetivos	Leer, escribir y representar números hasta la unidad de mil de manera concreta, pictórica y simbólica. MA03 OA 02. Comparar y ordenar números hasta 1 000, utilizando la recta numérica o la tabla posicional de manera manual y/o por medio de software educativo. (OA3)		
Contenidos	Numeración en centena, secuencias numéricas, descomposición en forma aditiva .		
Habilidades	Registrar, resolver, contar, aplicar		
Semana	N° 24	Periodo	Lunes 21al 24 de Septiembre 2020.
Link			

HORARIO DE ESTUDIO EN EL HOGAR				
Lunes	Martes	Miércoles	Jueves	Viernes
Retroalimentación con la profesora (cápsulas semanales)	Lenguaje		Matemática	Naturaleza
	Inglés	Orientación	Educación Física	Historia



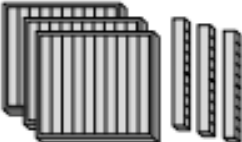



Antes de empezar las clases online debes revisar la guía enviada por tu profesora, por el correo o el WhatsApp de tu apoderado.





Recordemos:

Cuenta y completa




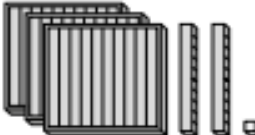
a)

			
<input type="text" value="310"/>	<input type="text"/>	<input type="text"/>	<input type="text"/>


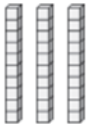

b)

			
<input type="text" value="111"/>	<input type="text"/>	<input type="text"/>	<input type="text"/>

c)

			
<input type="text" value="21"/>	<input type="text"/>	<input type="text"/>	<input type="text"/>


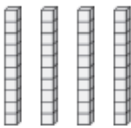

Escribe la cantidad de centenas, decenas y unidades.

Cuenta las centenas	Cuenta las decenas	Cuenta las unidades
		
2	3	5


Centenas	Decenas	Unidades
2	3	5

El número es 235


a.

Centenas	Decenas	Unidades
		

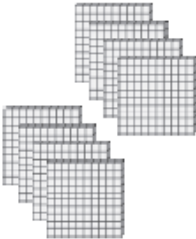
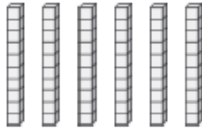
b.

Centenas	Decenas	Unidades
		

c.

Centenas	Decenas	Unidades
		

d.

Centenas	Decenas	Unidades
		

Usa las pistas para encontrar el cuaderno de cada niño.

PISTAS

Mi cuaderno tiene 1 centena
9 decenas y 8 unidades.

es _____



Mi cuaderno tiene 7 centenas,
1 decena, y 4 unidades.

es _____



Mi cuaderno tiene 3 centenas,
2 unidades y 7 decenas.

es _____




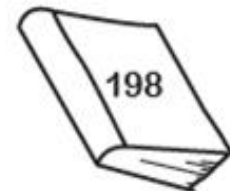
Mi cuaderno tiene 3 decenas,
5 unidades y 6 centenas.

es _____



Mi cuaderno tiene 6 unidades,
5 centenas.

es _____



Sigue contando y completa



Completa la tabla del 200


201		203							210
	212				216				220
		223				227		229	
	232			235			238		240
			244			247			
		253			256		258		260
	262		264			267			
				275					280
		283							
291				295					300

Lee , piensa y resuelve

Exploro

A menudo nuestros barrios son visitados por los organilleros, quienes además de mantener su arte, lo difunden en diversas calles y plazas.




- Ayuda al  a contar el dinero que recibió.

			
▼	▼	▼	▼
\$ 10	\$ <input type="text"/>	\$ <input type="text"/>	\$ <input type="text"/>

- Si continúa con el conteo, ¿cuánto dinero recibió en total?


▼
\$ <input type="text"/>

Razono

¿Cómo representarías el precio de  con monedas de \$ 10?

Encierra el valor de cada producto. Luego, escríbelo con palabras.

a.



_____ pesos.

b.



_____ pesos.

c.





_____ pesos.

d.



_____ pesos.

Resuelve los siguientes problemas.

 <p>Tenía \$600.</p> <p>Andrea</p>	 <p>El abuelito le regaló \$30</p>	<p>¿Cuánto dinero tiene ahora Andrea?</p>
<p>Andrea tiene ahora \$</p>		

 <p>Tenía \$700 ahorrados.</p>	<p>Su mamá le regaló \$153.</p> 	<p>¿Cuánto dinero tiene ahora Diego?</p>
<p>Diego tiene ahora \$</p>		

 <p>Tenía 500 láminas.</p>	 <p>Me regalaron otras 75.</p>	<p>¿Cuántas láminas tiene ahora Tiare?</p>
<p>Tiare tiene ahora láminas.</p>		