

Asignatura	Matemática		
Docente	Sandra Aguilera Lira		
Curso	6° Básico		
Objetivos	Comparar y ordenar números hasta 1 000, utilizando la recta numérica o la tabla posicional de manera manual y/o por medio de software educativo. (OA3)		
Contenidos	Numeración en centena, secuencias numéricas, descomposición en forma aditiva .		
Habilidades	Registrar, resolver, contar, aplicar		
Semana	N° 23	Periodo	Lunes 07 al 11 de Septiembre 2020.
Link			

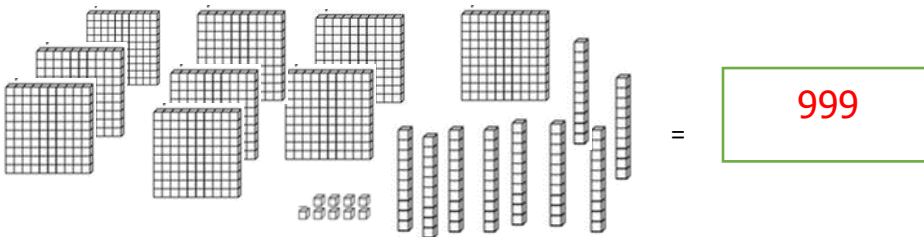
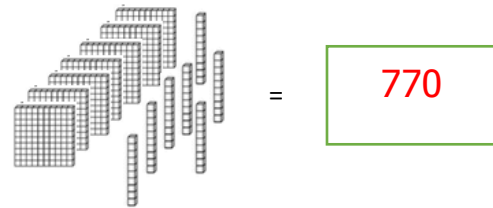
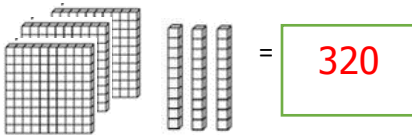
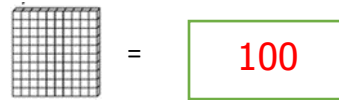
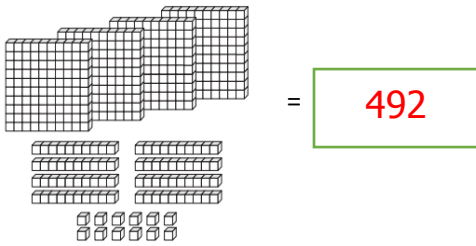
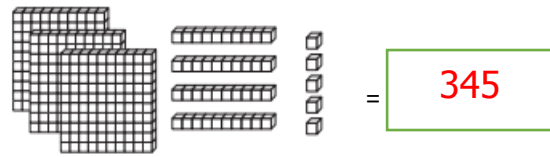
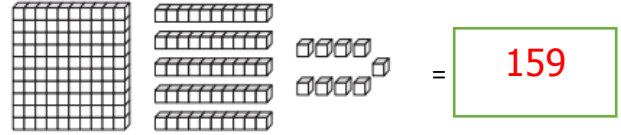
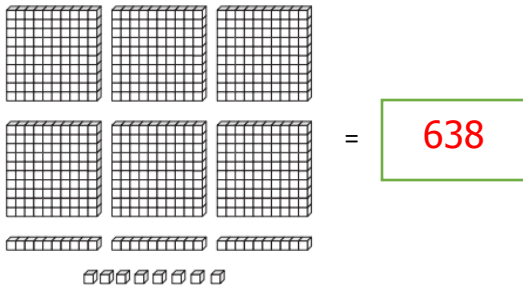
HORARIO DE ESTUDIO EN EL HOGAR				
Lunes	Martes	Miércoles	Jueves	Viernes
Retroalimentación con la profesora (cápsulas semanales)	Lenguaje		Matemática	Naturaleza
	Inglés	Orientación	Educación Física	Historia



Antes de empezar las clases online debes revisar la guía enviada por tu profesora, por el correo o el WhatsApp de tu apoderado.



Cuenta y escribe el número correspondiente






La adición $245 + 152$, ¿en cuál de las siguientes opciones está representada?

A)

B)

C)

 Roció todo los día la mamá le da dinero para su colación , ella ahorra el vuelto de su colación , ¿cuánto dinero ahorra Roció diariamente de su colación ?

.-El día lunes ahorro:



\$190

c	d	u
1	9	0

.-El día martes ahorro :



\$210

c	d	u
2	1	0

.-El día miércoles ahorro:



\$140

c	d	u
1	4	0

El día jueves ahorro:



\$60

c	d	u
	6	0

.-El día viernes ahorro:



\$200

c	d	u
2	0	0

Completa la siguiente tabla con los datos entregados anteriormente:

Roció ahorra en la semana:

Lunes	Martes	Miércoles	Jueves	Viernes
\$190	\$210	\$140	\$60	\$200

¿Cuánto dinero ahorra los días lunes y martes? Ahorro \$ 400

	c	d	u
	1	9	0
+	2	1	0
	4	0	0

¿Cuánto dinero ahorro los días jueves y viernes? Ahorro \$

	c	d	u
		6	0
+	2	0	0
	2	60	

¿Cuál fue el día que más ahorro Roció? Fue el día **Martes**

¿Cuánto dinero ahorro Roció en la semana?

Ahorro \$ **800**

	C	d	u
	2		
	1	9	0
	2	1	0
	1	4	0
		6	0
+	2	0	0
	8	0	0

 Observa las imágenes y responde :



Para resolver el problema Roció debe:

A sumar

B restar

C multiplicar

Roció quiere comprar un helado. ¿Cuánto dinero le falta?, marca la alternativa correcta

a) 

b) 

c) 

 Resolución problemas

a.-Tengo 56 dulces, regalo 30 dulces

¿Cuántas me quedan? _____

C	D	U
	5	6
-	3	0
	2	6

b.- Tengo 400 Stickers, regalo 250 Stickers

¿Cuántas me quedan? _____

C	D	U
4 3	0	0
-	2	5
	1	5
		0

c.- Tengo 568 bolitas, regalo 68 bolitas

¿Cuántas me quedan? _____

C	D	U
5	6	8
-	6	8
	5	0
	0	0

d.-Tengo 300 tarjetas navidad, me regalan 150 tarjetas.

¿Cuántas tengo en total? _____

C	D	U
3	0	0
+1	5	0
	4	5
		0

e.-Tengo 150 calcomanías y mi mamá me regaló 32 más.

¿Cuántas tengo en total? _____

C	D	U
1	5	0
+	3	2
	1	8
		2



Buena suerte

No olvides enviar
tu autoevaluación