

Guía repaso matemática

Profesora : Sandra Aguilera L.

Dibuja la menor cantidad de monedas de 100 , 10 , 5 y 1 peso que se necesitan para formar la cantidad de dinero que tiene las alcancías

























Guía repaso matemática

Profesora : Sandra Aguilera L.

1. Realiza la descomposición aditiva de cada número, siguiendo el ejemplo.

Número	Descomposición aditiva
146	$100 + 40 + 6$
435	___ + ___ + ___
299	___ + ___ + ___
106	___ + ___ + ___
276	___ + ___ + ___
180	___ + ___ + ___
79	___ + ___ + ___
89	___ + ___ + ___
359	___ + ___ + ___

2. Cuenta la cantidad de dinero y pinta la cantidad de monedas que necesitas para comprar cada objeto .

 \$ 39	  
 \$ 47	  
 \$ 38	  
 \$ 36	  
 \$ 27	  

Guía repaso matemática

1. Completa las siguientes secuencias numéricas de 1 en 1

181	182					
-----	-----	--	--	--	--	--

		207				
--	--	-----	--	--	--	--

	345					
--	-----	--	--	--	--	--

						600
--	--	--	--	--	--	-----

2. Completa las siguientes secuencias numéricas de 2 en 2

244	246					
-----	-----	--	--	--	--	--

110	112					
-----	-----	--	--	--	--	--

3. Completa las siguientes secuencias numéricas de 5 en 5 (20 pts)

350	355					
-----	-----	--	--	--	--	--

485	490					
-----	-----	--	--	--	--	--

100	105					
-----	-----	--	--	--	--	--

670	675					
-----	-----	--	--	--	--	--

4. Completa la tabla con la descomposición

Numero	C	D	U
348	300	40	8
796			
506			
280			
499			
500			

5. A partir de la descomposición escribe el número.

C	D	U	Numero
200	40	5	245
700	30	1	
500	0	9	
800	80	8	
300	0	6	
400	70	4	

6. Une la descomposición aditiva, con el número que le corresponde

a) $300 + 40 + 8$ 231

b) $700 + 0 + 3$ 111

c) $900 + 50 + 7$ 348

d) $200 + 30 + 1$ 529

e) $500 + 20 + 9$ 703

f) $100 + 10 + 1$ 957

GUIA REPASO MATEMATICA

Profesora : Sandra Aguilera Lira

1. Completa las siguientes secuencias numérica

26	27							
58	59				63			
		33				37		
49	48							

2. Escribe el antecesor y sucesor de cada número

	22	
--	----	--

	19	
--	----	--

	30	
--	----	--

	40	
--	----	--

	37	
--	----	--

	10	
--	----	--

	58	
--	----	--

	26	
--	----	--

	44	
--	----	--

3. Resuelve las adiciones y sustracciones

$$\begin{array}{r} 35 \\ + 44 \\ \hline \end{array}$$

$$\begin{array}{r} 52 \\ + 23 \\ \hline \end{array}$$

$$\begin{array}{r} 61 \\ + 15 \\ \hline \end{array}$$

$$\begin{array}{r} 22 \\ + 22 \\ \hline \end{array}$$

$$\begin{array}{r} 73 \\ + 16 \\ \hline \end{array}$$

$$\begin{array}{r} 80 \\ - 50 \\ \hline \end{array}$$

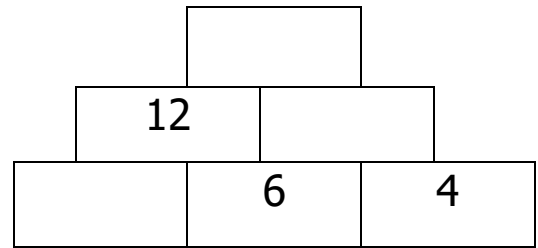
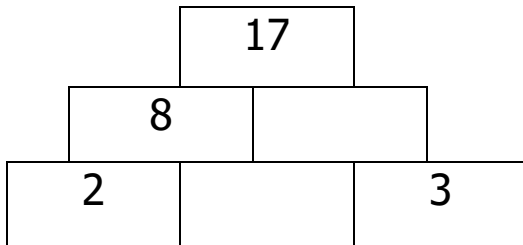
$$\begin{array}{r} 79 \\ - 47 \\ \hline \end{array}$$

$$\begin{array}{r} 35 \\ - 25 \\ \hline \end{array}$$

$$\begin{array}{r} 68 \\ - 30 \\ \hline \end{array}$$

$$\begin{array}{r} 89 \\ - 64 \\ \hline \end{array}$$

4. Completa la pirámide con los resultados que faltan



Buena suerte