



Profesora : Claudia Honorato
Curso : 5 Básico A EB ESPECIAL




Objetivo : Resolver un problema matemático usando la adición y/o sustracción.

Contenido : problemas, adición, sustracción

Habilidad : comprender, identificar escoger, calcular, responder

Semana : N° 7 del 11 al 15 de Mayo del 2020

Mamá y papá :

¿ Qué  aprenden  sus hijos  ?








1.-A poner **atención**  a los datos.

2.-A **seleccionar**  la información relevante.

3.-A tomar una **decisión** .

4.-A elegir que **operación matemática**  va a usar.

5.-A responder  al problema  dado.




¿En **qué**  voy  a trabajar  ?
Hoy , yo voy  a resolver un problema 
matemático. , usando la suma $\frac{+8}{2}$ y la resta $\frac{-8}{2}$.


Instrucciones:

Con ayuda  de tu **mamá** o **papá**, escucha  con atención 

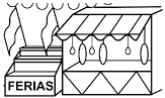


Piensa  y resuelve :

Antes de comenzar, piensa:

¿Con qué actitud  ò  harán los problemas matemáticos  estos niños?
Dibuja sus caras, según lo que tú piensas:




Problema  **1:**

Mi mamá compró **en la feria**  : 10 manzanas  , 3 sandias 
 y 5 peras  .

¿Cuántas  frutas compró en total **mi mamá en la feria**  ?

Datos en número	Operatoria +/-	Operación $\frac{+8}{+2} / \frac{-8}{-2}$	Resultado =

Respuesta  : **Mi mamá** compró en total _____ frutas 



Problema 2:

En un canasto tengo: 18 manzanas y le regalé 6 manzanas a mi abuelo.

¿Cuántas manzanas me quedan en el canasto ?

Datos en número	Operatoria +/-	Operación $\frac{+8}{-2} / \frac{-8}{-2}$	Resultado =

Respuesta: En el canasto me quedan _____ manzanas .

Problema 3:

En una bandeja mi mamá puso 14 vasos con jugo y yo le saqué 4 vasos para mis hermanos.

¿Cuántas vasos con jugo quedan en la bandeja ?

Datos en número	Operatoria +/-	Operación $\frac{+8}{-2} / \frac{-8}{-2}$	Resultado =

Respuesta: En la bandeja quedan _____ vasos .


Problema 4:

En una bandeja hay **26** galletas de chocolate y me como 5 galletas

¿Cuántas galletas quedan en la bandeja ?

Datos en número	Operatoria +/-	Operación $\begin{array}{r} +8 \\ \underline{+2} \end{array} / \begin{array}{r} -8 \\ \underline{-2} \end{array}$	Resultado =

Respuesta : En la bandeja quedan _____ galletas .



Problema 5:


En una cancha hay 20 niños jugando a la pelota

y llegan 6 niños más.






¿Cuántos niños en total juegan en la cancha?

Datos en número	Operatoria +/-	Operación $\begin{array}{r} +8 \\ \underline{+2} \end{array} / \begin{array}{r} -8 \\ \underline{-2} \end{array}$	Resultado =

Respuesta : En la cancha juegan en total _____ niños .



Mira  y piensa  :

fruta	cantidad	en número
tomate		5
manzana		
plátano		
naranja		
piña		

Responde  :

Hay manzanas 

El fruto con menos - cantidad es el

El fruto con más + cantidad es la




Hay naranjas 

Si me como 1 plátano  me quedan

Si regalo 5 piñas , me quedan




Si agrego 1 tomate  tengo

Si saco 3 naranjas , me quedan

Piensa  y responde  con ayuda  de tu mamá o papá:

1.- ¿ Te gusta resolver problemas matemáticos  ?




















Solucionario Problemas    :

Semana 7 del 11 al 15 de Mayo del 2020

Ahora  revisa  con la ayuda  de **tú mamá** o **papá**.

Pone un visto  a los correctos y si no intenta de nuevo.

Problemas


Problema   1	Mi mamá compró en total 18 frutas 
Problema   2	En el canasto  me quedan 12 manzanas  .
Problema   3	En la bandeja quedan 10 vasos  .
Problema   4	En la bandeja quedan 21 galletas  .
Problema   5	En la cancha  juegan en total 26 niños  .

Responde   :

Hay manzanas 

El fruto con menos - cantidad es el

El fruto con más + cantidad es la

Hay naranjas 

Si me como 1 plátano  me quedan

Si regalo 5 piñas  , me quedan

Si agrego 1 tomate  tengo

Si saco 3 naranjas  , me quedan

Evaluación del colaborador
Guía Problemas Matemáticos
Fecha del 11 al 15 de Mayo del 2020

Nombre del colaborador: _____
Fecha de la Evaluación: _____

Se solicita evaluar el desempeño de su hijo/a según lo observado por usted, en esta guía.

Marcar con una X su evaluación.

Indicador	Sin dificultad 3	Con algo de dificultad 2	Con mucha dificultad 1
Realiza la guía con disposición			
Identifica los datos en números y los ubica en el problema			
Identifica la operación matemática que debe usar para resolver el problema			
Realiza la operatoria de la suma o resta sin equivocarse			
Identifica la pregunta del problema dado			
Responde a la pregunta del problema dado			
Se da cuenta de sus errores			
Corrige los errores			
Realiza la guía en los tiempos dados por el adulto			

De antemano Muchas Gracias

