



Unidad Los Paisajes de las zonas climáticas de la Tierra

Profesora : Claudia Honorato S.


Curso : 5 Básico A EB ESPECIAL

Objetivo : Nombrar e identificar características básicas de los paisajes de las zonas frías y templadas.

Contenido : paisajes, zonas climáticas frías y templadas.

Habilidad : recordar, nombrar, identificar

Semana : N° 7 desde Lunes 11 al Viernes 15 de Mayo del 2020

¿ Qué  veremos durante el mes de Mayo?

1.- Los Paisajes.

2.- Los paisajes de la zona cálida.

3.- Los paisajes de la zona fría y templadas.




4.- Síntesis sobre los paisajes de cada zona climática.



5.- Evaluación trabajo paisaje con material de reciclaje.






Guía 3 Los paisajes de la zonas frías y templadas



1.-Lee:


¿ Qué  voy  aprender  ?

Yo voy  a aprender  ,

sobre los paisajes  de la zonas frías y templadas 



de la Tierra 

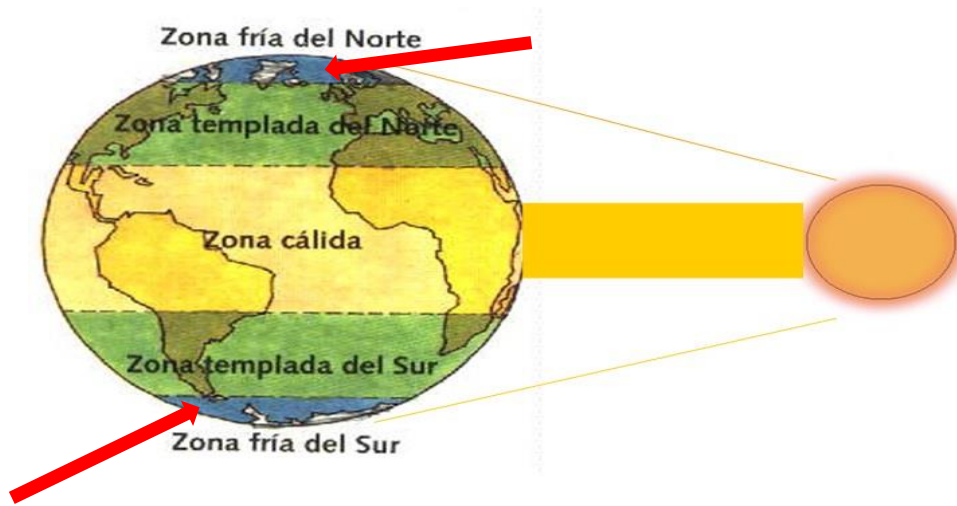
2.- Busca un lugar tranquilo en tu casa  y con ayuda 

de tú **papá**  o **mamá**  mira en youtube el siguiente link para recordar las zonas climáticas frías y templadas

<https://nidaaaulad.wixsite.com/geografia-e-historia/blank-2>

<https://uanbascon.blogspot.com/2011/01/06-los-climas-de-la-tierra.html>

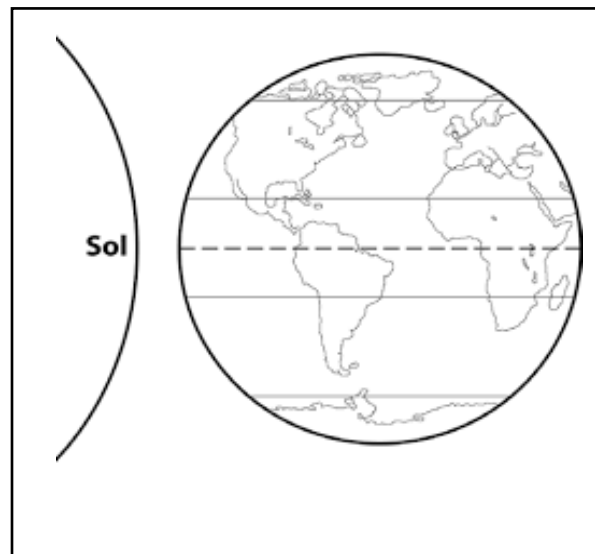
3.-Observa  con atención las **zonas frías** de la Tierra  .-



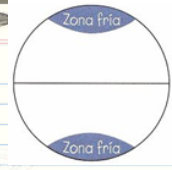
Observa 

Marca con una X las zonas frías

Pinta  sólo las zonas frías







4.- Escucha  con atención  :



Las zonas frías

Las **zonas frías** están ubicadas entre los polos y los círculos polares

Las **precipitaciones**  son en forma de **nieve**  ,

y las temperaturas  son muy bajas  todo el año.

5.- Mira  y pide ayuda  a tú papá  o mamá  ,
y lean el siguiente esquema:

Los paisajes  de la zona fría 

1

Paisaje **de taiga**



2



Paisaje **polar**




6.-

Paisaje Polar

Clima sus temperaturas  ? son muy bajas 

y escasas precipitaciones  que suelen ser en forma de nieve 

Su vegetación es escasa y en meses de verano  crecen

los musgos , líquenes  y matorrales.

Algunos lugares son América del Norte (Alaska, Groenlandia)
y la Antártida



Paisaje de Taiga:

Se ubican en el hemisferio norte en la zona fría

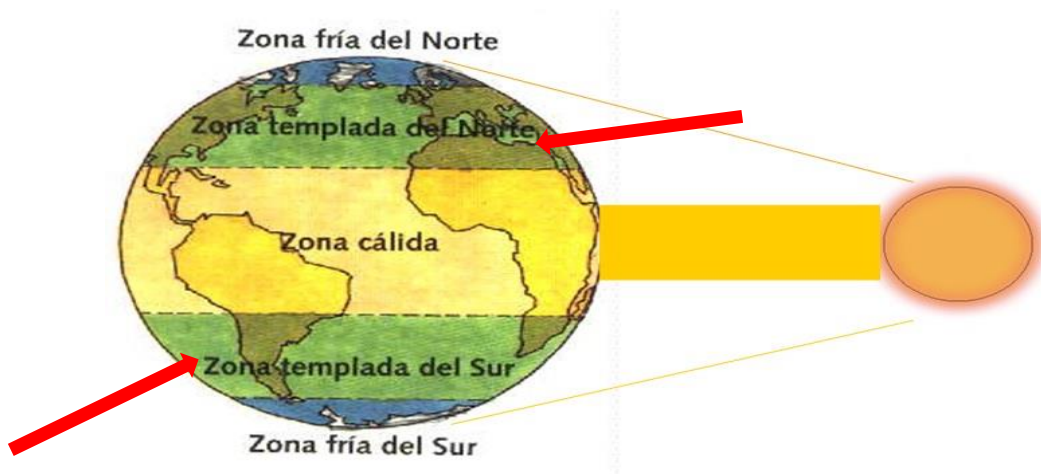
Su **clima** es frío  y húmedo.

Su **flora**  está formada por tener diferentes tipos de árboles ,

que forman los bosques  como el bosque boreal.



7.- Observa  con atención las **zonas templadas** de la Tierra  .-








8.-Escucha  con atención  :

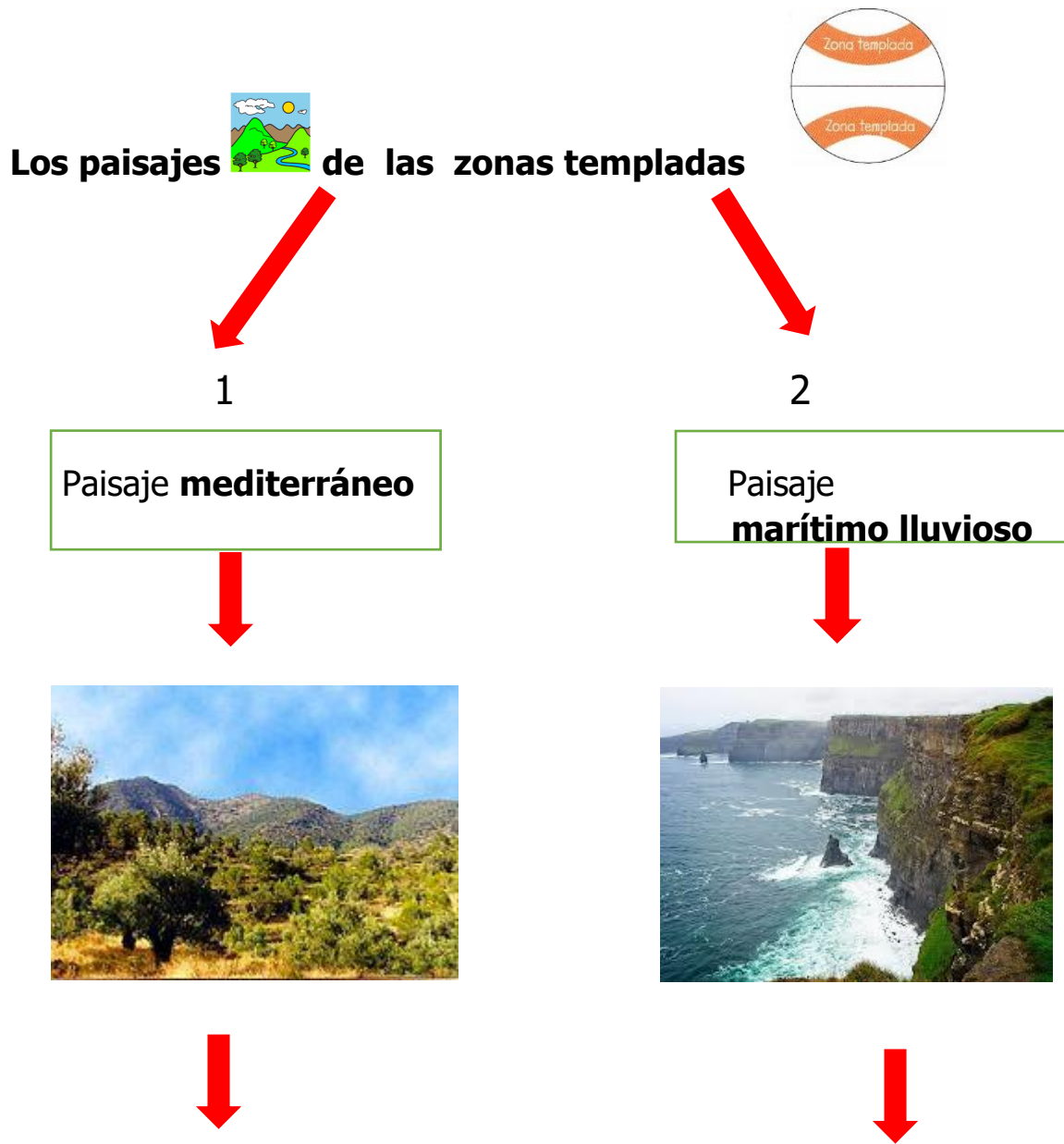
Las zonas templadas

Las **zonas templadas** están ubicadas entre los trópicos y los círculos polares
Habita la mayor parte de los seres humanos.



Llueve  y hace frío  en los meses de invierno  ,
y hace calor  en verano  .

9.- Mira  y pide ayuda  a tú papá  o mamá , para que lean el siguiente esquema:






Ahora busca y pega un recorte



Paisajes Mediterráneo

Su **clima** tiene veranos cálidos y secos y los inviernos son fríos  y lluviosos.


Su **flora**  se encuentran los arbustos  y árboles  bajos como el **espino**, el **quillay** y el **boldo**.



En la zona central de Chile  su paisaje  es mediterráneo.





Paisaje marítimo lluvioso





En su **clima** influye la cercanía con **el océano** 

Sus veranos  son cálidos

y en invierno  llueve  mucho.

Su **flora**  es muy variada, hay arboles  como el canelo o el alerce y también helechos y musgos.



10.- Ahora Recuerda  piensa  y une 
 el paisaje  con su imagen:

Paisaje polar



Paisaje mediterráneo



Paisaje marítimo lluvioso







Paisaje de taiga




11.-Entonces ¿Qué  aprendiste hoy? Encierra tu respuesta:

<p>Paisajes de la zona fría</p>   	<p>Paisajes de la zona cálida</p>   	<p>Paisajes de la zona templada</p>   
--	---	--

Solucionario  **Los paisajes de la zonas frías y templadas**
Semana 7 : del 11 al 15 de Mayo del 2020

Revisa  con atención  con ayuda  de tú **mamá** o **papá**
Coloca un visto  si es correcta y si no inténtalo de nuevo.

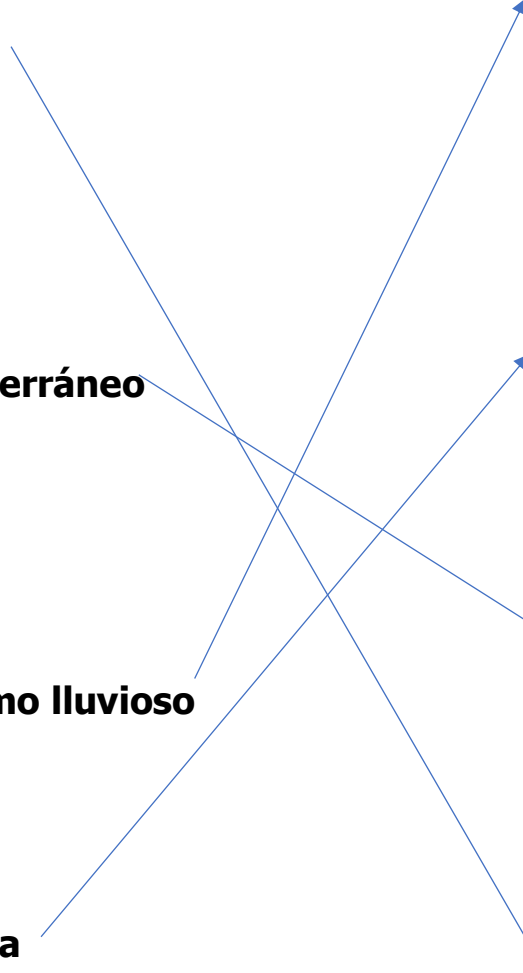
10.- Une 

Paisaje polar

Paisaje mediterráneo

Paisaje marítimo lluvioso

Paisaje de taiga



11.- Encierra tu respuesta

<p>Paisajes de la zona fría</p> 	<p>Paisajes de la zona cálida</p> 	<p>Paisajes de la zona templada</p> 
--	---	--

Tu siempre puedes



Estimado apoderado.

Les solicito que vayan repasando en forma constante las guías de Historia enviadas al hogar, en estos momentos ustedes cumplen un rol muy importante para avanzar con sus hijos/as. Agradezco su apoyo y compromiso.

Saludos y cuídense

La profesora

Evaluación del colaborador

Guía Los paisajes de la zona fría y templadas

Fecha del 11 al 15 de Mayo del 2020

Nombre del colaborador: _____

Fecha de la Evaluación: _____

Se solicita evaluar el desempeño de su hijo/a según lo observado por usted, en esta guía.

Marcar con una X su evaluación

Indicador	Sin dificultad 3	Con algo de dificultad 2	Con mucha dificultad 1
Realiza la guía con buena disposición			
Sigue las instrucciones paso a paso			
Distingue entre zona fría y la zona templada			
Distingue entre el paisaje polar y el de taiga			
Distingue entre el paisaje mediterráneo y el marítimo lluvioso			
Responde a las preguntas dadas sobre los paisajes			
Se da cuenta de sus errores			
Corrige los errores			
Realiza la guía en los tiempos dados por el adulto			

De antemano Muchas Gracias