




Objetivo : Contar números del 0 al 50 de 1 en 1, de 2 en 2, de 5 en 5 y de 10 en 10,  
 Hacia adelante y hacia atrás, empezando por cualquier número menor que 50.





Contenido : ámbito numérico, calendario



Habilidad : Contar, reconocer, comprender y responder

Semana : Nº 6 desde Lunes 4 al Viernes 8 de Mayo del 2020

Día: \_\_\_\_\_ Mes: \_\_\_\_\_ Año: \_\_\_\_\_

¿ En **qué**  voy  a trabajar  ?

Hoy  , yo voy  a trabajar  en ámbito numérico  
 con ayuda del **calendario**  del **mes** de **Mayo** del 2020.




1.- Mira  y lee  los números

 **Mayo 2020**

Lunes	Martes	Miércoles	Jueves	Viernes	Sábado	Domingo
				<b>1</b>	2	3
				<small>Día del trabajo</small>		
4	5	6	7	8	9	10
11	12	13	14	15	16	17
18	19	20	<b>21</b>	22	23	24
			<small>Día de las Glorias Navales</small>			
25	26	27	28	29	30	31



Día: \_\_\_\_\_ Mes: \_\_\_\_\_ Año: \_\_\_\_\_

Ahora, ¿ En **qué**  voy  a trabajar  ?

yo voy  a trabajar  con el ámbito numérico del **30** al **50**.

5.- Completa la Familia del 30:

30

Pinta  el 30

$30+0=$	30
$30+1=$	
$30+2=$	
$30+3=$	
$30+4=$	
$30+5=$	
$30+6=$	
$30+7=$	
$30+8=$	
$30+9=$	

Completa la Familia del 40:

40

Pinta  el 40

$40+0=$	40
$40+1=$	
$40+2=$	
$40+3=$	
$40+4=$	
$40+5=$	
$40+6=$	
$40+7=$	
$40+8=$	
$40+9=$	

Completa la Familia del 50:



Pinta  el 50

$50+0=$	50
$50+1=$	
$50+2=$	
$50+3=$	
$50+4=$	
$50+5=$	
$50+6=$	
$50+7=$	
$50+8=$	
$50+9=$	

6.-Completa las siguientes secuencias:

Del 30

30	31	32							
----	----	----	--	--	--	--	--	--	--

Del 40

40	41								
----	----	--	--	--	--	--	--	--	--






Del 50

50	51								
----	----	--	--	--	--	--	--	--	--

Tú puedes 

## Solucionario Matemáticas:

Semana 6 del Lunes 4 al Viernes 8 de Mayo del 2020

Ahora  revisa  con la ayuda  de **tú mamá o papá.**  
Pone un visto  a las correctas y si no  intenta de nuevo.

2.-

El calendario es del **mes** de Mayo

del **año** 2020

y **hoy** es \_\_\_\_\_ (el día que realicen la guía)

Los días feriados de **Mayo** son el 1 y el 21.

Los **lunes** del mes de Mayo son el 4, 11, 18 y el 25

y los **viernes** son el 1, 8, 15, 22 y el 29;

el mes de Mayo comienza el Viernes 1 y termina el Domingo 31.-

3.-



### Mayo 2020

Lunes	Martes	Miércoles	Jueves	Viernes	Sábado	Domingo
				1	2	3
4	5	6	7	8	9	10
11	12	13	14	15	16	17
18	19	20	21	22	23	24
25	26	27	28	29	30	31

4.-

y

5.-

30+0=	<b>30</b>
30+1=	<b>31</b>
30+2=	<b>32</b>
30+3=	<b>33</b>
30+4=	<b>34</b>
30+5=	<b>35</b>
30+6=	<b>36</b>
30+7=	<b>37</b>
30+8=	<b>38</b>
30+9=	<b>39</b>

40+0=	<b>40</b>
40+1=	<b>41</b>
40+2=	<b>42</b>
40+3=	<b>43</b>
40+4=	<b>44</b>
40+5=	<b>45</b>
40+6=	<b>46</b>
40+7=	<b>47</b>
40+8=	<b>48</b>
40+9=	<b>49</b>


50+0=	<b>50</b>
50+1=	<b>51</b>
50+2=	<b>52</b>
50+3=	<b>53</b>
50+4=	<b>54</b>
50+5=	<b>55</b>
50+6=	<b>56</b>
50+7=	<b>57</b>
50+8=	<b>58</b>
50+9=	<b>59</b>

6.-

30	31	32	<b>33</b>	<b>34</b>	<b>35</b>	<b>36</b>	<b>37</b>	<b>38</b>	<b>39</b>
----	----	----	-----------	-----------	-----------	-----------	-----------	-----------	-----------

40	41	<b>42</b>	<b>43</b>	<b>44</b>	<b>45</b>	<b>46</b>	<b>47</b>	<b>48</b>	<b>49</b>
----	----	-----------	-----------	-----------	-----------	-----------	-----------	-----------	-----------

50	51	<b>52</b>	<b>53</b>	<b>54</b>	<b>55</b>	<b>56</b>	<b>57</b>	<b>58</b>	<b>59</b>
----	----	-----------	-----------	-----------	-----------	-----------	-----------	-----------	-----------

Tú puedes  y que bien lo hiciste