

Objetivo : Ejercitar la operatoria de adición y sustracción de unidades y decenas sin reserva hasta el ámbito 30.






Contenido : adición, sustracción


Habilidad : ejercitar, revisar

Semana : N° 5 desde Lunes 27 al 30 de Abril del 2020

Nombre: _____

Día: _____ Mes: _____ Año: _____

¿ En **qué**  voy  a trabajar  ?
 Hoy  , yo voy  a ejercitar
 la suma $\begin{array}{r} +8 \\ \underline{+2} \end{array}$.

1.- Suma $\begin{array}{r} +8 \\ \underline{+2} \end{array}$ y recuerda  empiezas por las unidades U

a	D	U
	2	7
+		1
=		

b	D	U
	2	3
+		4
=		

c	D	U
	2	6
+		3
=		


d	D	U
	2	3
+		1
=		

e	D	U
	2	5
+		1
=		

f	D	U
	2	5
+		4
=		

g	D	U
	2	2
+		3
=		

h	D	U
	1	6
+		0
=		

Tú puedes 

2.- Inventa  con ayuda  de **tú mamá** o **papá** 4 sumas $\frac{+8}{2}$

a	D	U
+		
=		




b	D	U
+		
=		

c	D	U
+		
=		

d	D	U
+		
=		


3.- **Solucionario** de las sumas $\frac{+8}{2}$:

Semana del 27 al 30 de Abril del 2020

Ahora  revisa  con la ayuda  de **tú mamá** o **papá**.






Pone un visto  a las correctas y si no intenta de nuevo.

a 28 <input type="checkbox"/>	b 27 <input type="checkbox"/>	c 29 <input type="checkbox"/>	d 24 <input type="checkbox"/>
e 26 <input type="checkbox"/>	f 29 <input type="checkbox"/>	g 25 <input type="checkbox"/>	h 16 <input type="checkbox"/>

Tú puedes 

MATEMATICAS -OPERATORIA 2
Semana del 27 al 30 de Abril 2020

Día: _____ Mes: _____ Año: _____


¿ En **qué**  voy  a trabajar  ?
Hoy  , yo voy  a ejercitar la resta $\begin{array}{r} -8 \\ 2 \end{array}$.

1- Resta $\begin{array}{r} -8 \\ 2 \end{array}$ y recuerda  empiezas por las unidades **U**:

a	D	U	b
	1	5	
-		2	-
=			=
c	D	U	d
	1	6	
-		5	-
=			=
e	D	U	f
	2	8	
-		2	-
=			=
g	D	U	h
	2	6	
-		6	-
=			=




2.- Inventa  con ayuda  de **tú mamá** o **papá** 4 restas $\begin{array}{r} -8 \\ 2 \end{array}$.

a	D	U	b
-			-
=			=
c	D	U	d
-			-
=			=

Tú puedes 




Solucionario de las restas $\frac{-8}{2}$:



Semana del 27 al 30 de Abril 2020


Ahora  revisa  con la ayuda  de **tú mamá** o **papá**.

Pone un visto  a las correctas y si no intenta de nuevo.

a 13 <input type="radio"/>	b 24 <input type="radio"/>	c 1 <input type="radio"/>	d 13 <input type="radio"/>
e 16 <input type="radio"/>	f 25 <input type="radio"/>	g 20 <input type="radio"/>	h 16 <input type="radio"/>

Piensa  y **responde**  con ayuda  de tu **mamá** o **papá**:

1.- ¿Qué  te gusta  resolver las sumas $\frac{+8}{2}$ o las restas $\frac{-8}{2}$?	
las sumas $\frac{+8}{2}$ <input type="radio"/>	las restas $\frac{-8}{2}$ <input type="radio"/>



MATEMATICAS -Razonamiento

Profesora : Claudia Honorato
Curso : 5 Básico A EB ESPECIAL

Objetivo : Resolver un problema de razonamiento matemático usando la adición y/o sustracción.

Contenido : problemas, adición , sustracción

Habilidad : comprender ,identificar escoger, calcular.

Semana : N° 5 del 27 al 30 de Abril del 2020

Mamá y papá :

¿ Qué  aprenden  sus hijos  ?

1.- A poner **atención**  a los datos.

2.- A **seleccionar**  la información relevante.

3.- A tomar una **decisión** .

4.- A elegir qué **operación matemática**  va a usar.

5.- A responder  al problema  dado .





Razonamiento

Semana 5 del 27 al 30 de Abril del 2020

Día: _____ Mes: _____ Año: _____

1.- Lee



¿En **qué** voy a trabajar a trabajar
 Hoy  , yo voy a resolver un problema
 de razonamiento matemático.  , usando la suma $\begin{array}{r} +8 \\ -2 \end{array}$ y la resta $\begin{array}{r} -8 \\ -2 \end{array}$.

Instrucciones:

Con ayuda de tu **mamá** o **papá**, escucha con atención

Piensa y resuelve :


Problema 1:

Hay 15 manzanas en una cesta . Yo me como 4 manzanas .

¿Cuántos manzanas me quedan?

Datos en número	Operatoria +/-	Operación $\begin{array}{r} +8 \\ -2 \end{array} / \begin{array}{r} -8 \\ -2 \end{array}$	Resultado =

Respuesta : Me quedan _____manzanas



Problema 2:

En una canasto tengo: 11 manzanas, 6 plátanos y 1 naranja.

¿Cuántas frutas tiene el canasto en total?

Datos en número	Operatoria +/-	Operación $\frac{+8}{-2} / \frac{-8}{-2}$	Resultado =

Respuesta: El canasto tiene en total _____ frutas.



Problema 3:


En una bolsa yo tengo: 4 lechugas, 4 tomates y 2 limones.

¿Cuántas verduras tiene la bolsa en total?




Datos en número	Operatoria +/-	Operación $\frac{+8}{-2} / \frac{-8}{-2}$	Resultado =

Respuesta: La bolsa tiene en total _____ verduras.










Solucionario Problemas    :

Semana 5 del 27 al 30 de Abril del 2020

Ahora  revisa  con la ayuda  de **tú mamá o papá**.

Pone un visto  a los correctos y si no intenta de nuevo.

<p>Problema    1</p>	<p>Me quedan 11 manzanas  .</p>
<p>Problema    2</p>	<p>El canasto  tiene en total <u>18</u> frutas  .</p>
<p>Problema    3</p>	<p>La bolsa  tiene en total <u>10</u> verduras  .</p>

Piensa  y **responde**  con ayuda  de tu **mamá o papá**:

1.- ¿ Te gusta resolver problemas    ?



Tú puedes 