



Asignatura: Matemáticas	
Docente : Claudia Honorato S.	Curso: 5º Básico A
Objetivo de Aprendizaje: OA7 1º Básico Determinar las unidades y decenas en números del 0 al 100, agrupando de 10, de manera concreta, pictórica y simbólica.	
Contenido: Números, determinación del valor representado por cada dígito, de acuerdo a su posición en relación a unidades y decenas.	
Habilidad : Identificar unidades y decenas de números hasta 100.	
Semana N° 32 (Lunes 16 al Viernes 20 de Noviembre del 2020)	

Horario online				
Lunes	Martes	Miércoles	Jueves	Viernes
Retroalimentación con el apoderado.	Lenguaje		Matemáticas 10:30 a 11:15 hrs	Historia/ Cs Naturales
	Inglés		Ed Física	

1.- Te **recuerdo** que continuamos con las clases online, la asignatura de Matemáticas, son los Jueves de las 10:30 a 11:15 hrs, por lo que debes conectarte en ese horario y tener tus materiales de trabajo.






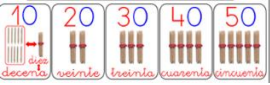
¡Vamos a matemáticas



Si son las 10:30 hrs



¿Qué aprenderé en Noviembre?

 <p>1, 2, 3 100</p>		 <p>número 30 treinta</p>	
Los números hasta 100.	Problemas de razonamiento matemático.	Unidades y decenas hasta 100	Unidades y decenas Hasta 100.


¿Qué aprenderé hoy?

Hoy aprenderé a identificar las unidades y decenas de números hasta 100.

2.- Pero primero, **recuerda:**



3.- Recuerda, piensa, agrupa en decenas y responde:




¿Cuántas decenas de fósforos hay?

Hay _____ **D**

¿Cuántas unidades de fósforos quedan?

Quedan _____ **U**

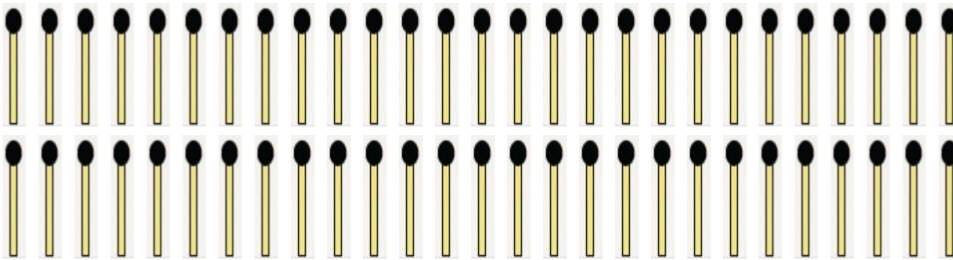


¿Cuántas decenas de fósforos hay?

Hay _____ D

¿Cuántas unidades de fósforos quedan?

Quedan _____ U




¿Cuántas decenas de fósforos hay?

Hay _____ D

¿Cuántas unidades de fósforos quedan?

Quedan _____ U



¿Cuántas decenas de palitos hay?


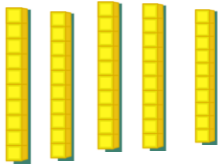
Hay _____ D

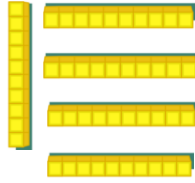
¿Cuántas unidades de palitos quedan?


Quedan _____ U

Vamos muy bien, sigamos

4.- ¿Cuántas decenas hay?







5.- Sigamos ¿A qué número representa?

D	U
1	20
2	
3	
4	
5	

D	U
6	20
7	
8	
9	



6.- **Cuenta** y repite las veces que sea necesario:

10	20	30	40	50	60	70	80	90
----	----	----	----	----	----	----	----	----

7.- Completa con el número que falta:

10		30		50	60			90
----	--	----	--	----	----	--	--	----

Tú siempre puedes

8.- Completa la siguiente tabla con las decenas y unidades según corresponda.

Número	Decenas D	Unidades U
9	0	9
19	1	9
26		
18		
33		
48		
37		
30		
45		
46		
57		
50		
59		
61		
66		
96		
80		

9.- Y para terminar, **piensa** y **escribe** el número que corresponde:

D	U	Número
3	6	36
2	3	
5	4	
6	2	
4	7	
5	9	



Y no olvides sacar fotos de la guía terminada y enviarlas al whatsapp de la profesora.



Tú siempre puedes



Matemáticas Semana 32

Fecha: Lunes 16 al Viernes 20 de Noviembre del 2020

Nombre del colaborador: _____

Fecha de la Evaluación: _____

Se solicita evaluar el desempeño de su hijo/a según lo observado por usted, en esta guía. Marcar con una X su evaluación.

Indicador	Con mucha dificultad 1	Con algo de dificultad 2	Sin dificultad 3
Responsabilidad, disposición			
Reúne los materiales antes de iniciar la guía.			
Realiza la guía con buena disposición.			
Se da cuenta de sus errores.			
Corrige los errores.			
Realiza la guía en los tiempos dados por el adulto.			
Del contenido			
Forma decenas			
Identifica la decena y la unidad de un número dado.			
Identifica en un número cual es la decena y la unidad.			

De antemano

Muchas gracias por gran apoyo y colaboración.