



Asignatura: Matemáticas	
Docente : Claudia Honorato S.	Curso : 5º Básico A
Objetivo de Aprendizaje: OA1 1ºB Contar números del 0 al 100, de 1 en 1, de 2 en 2 hacia adelante y hacia atrás empezando de cualquier número menor que 100.	
Contenido: Números, reconocimiento, lectura y escritura de números del 0 al 100; ordenación de números	
Habilidad : Contar, ordenar, leer y escribir números hasta 100.	
Semana N° 30 (Lunes 2 al Viernes 6 de Noviembre del 2020)	

Horario online				
Lunes	Martes	Miércoles	Jueves	Viernes
Retroalimentación con el apoderado.	Lenguaje		Matemáticas 10:30 a 11:15 hrs	Historia/ Cs Naturales
	Inglés		Ed Física	

- 1.- Te **recuerdo** que las clases online, de la asignatura de Matemáticas, son los Jueves de las 10:30 a 11:15 hrs, por lo que debes conectarte en ese horario y tener tus materiales de trabajo a mano.







¡Vamos a matemáticas!



Si son las 10:30 hrs




¿Qué aprenderé en **Noviembre**?

 1, 2, 3 100			
Los números hasta 100.	Problemas de razonamiento matemático.	Unidades y decenas hasta 100	Unidades y decenas Hasta 100.

¿Qué aprenderé **hoy**?

Hoy voy a identificar los números hasta el 100.

- 1.- Pero primero, **recuerda** y **escribe** algunos números que te dictará la profesora en las clases online. (hasta 50)



Recuerda.... que los **números** son símbolos que representan cantidades.

2.-Sigamos, **mira** con atención y **piensa** ¿Qué números faltan?, luego completa.

0	1	2	3		5				
10		12	13		15		17		19
	21	22		24	25	26		28	29
	31	32	33						
40	41		43	44	45				

Ejemplo:

= 4 = _____ = _____ = _____

= _____ = _____ = _____ = _____

= _____ = _____ = _____ = _____

= _____ = _____ = _____ = _____

= _____ = _____ = _____ = _____


= _____ = _____ = _____ = _____




3.- Sigamos, ¿Qué número falta?

Marca la respuesta:

43	44		46
----	----	--	----



37	38	39	
----	----	----	--



47	48	49	
----	----	----	--



56	57	58	
----	----	----	--



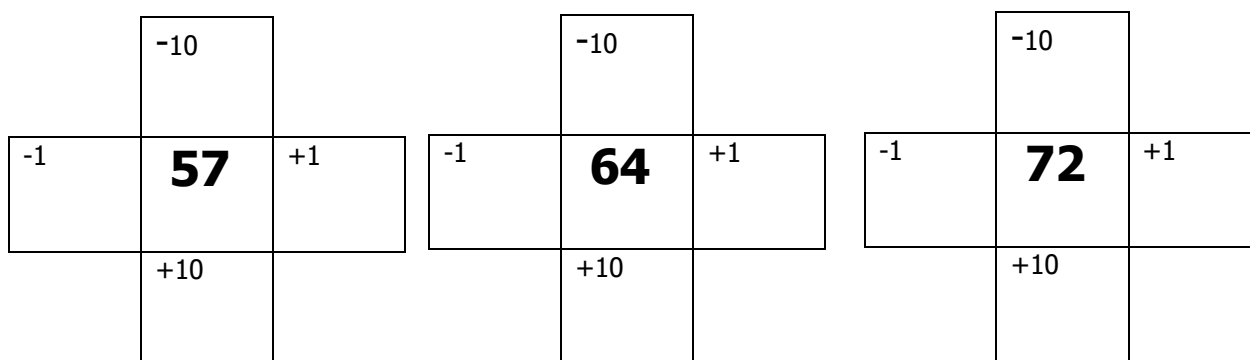
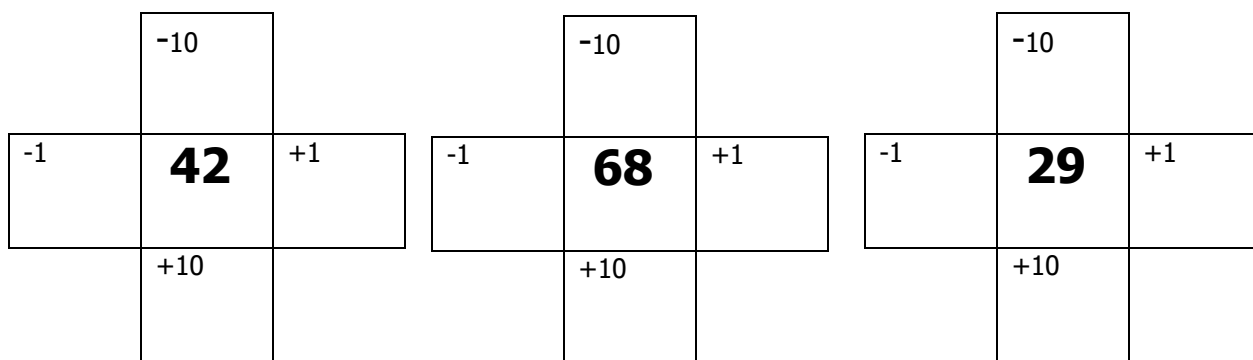
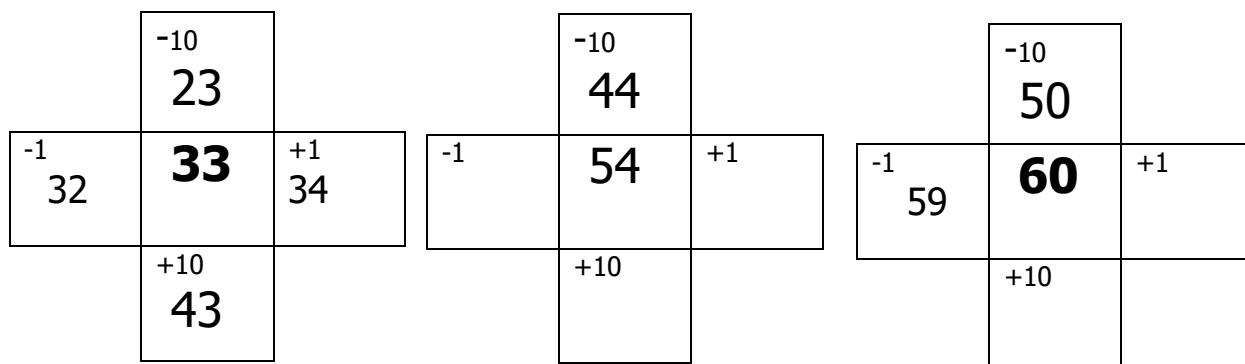
4.- **Mira** la siguiente tabla y completa con los números que están antes y después de

1	2	3	4	5	6	7	8	9	10
	12		14	15	16	17	18	19	20
	22		24		26		28	29	
	32		34		36		38	39	
	42		44		46		48	49	
	52		54		56		58	59	
	62		64		66		68	69	
	72		74		76		78	79	80
81		83		85	86	87		89	
91		93		95	96	97	98	99	100



5.- Ahora usa la Tabla numérica hasta 100, para descubrir el 1 más, 1 menos, 10 más y 10 menos.

Ejemplo:



Recuerda, cuando termines la guía sácale fotos y envíalas al whatsapp de la profesora Claudia.



Matemáticas Semana 30

Fecha: Lunes 02 al Viernes 06 de Noviembre del 2020

Nombre del colaborador: _____

Fecha de la Evaluación: _____

Se solicita evaluar el desempeño de su hijo/a según lo observado por usted, en esta guía. Marcar con una X su evaluación.

Indicador	Con mucha dificultad 1	Con algo de dificultad 2	Sin dificultad 3
Responsabilidad, disposición			
Reúne los materiales antes de iniciar la guía.			
Realiza la guía con buena disposición.			
Se da cuenta de sus errores.			
Corrige los errores.			
Realiza la guía en los tiempos dados por el adulto.			
Del contenido			
Escribe algunos números al dictado del 0 al 50.			
Completa la tabla con el número que falta hasta 100.			
Identifica número que falta en secuencia dada.			
Identifica números según regla 1 más, 1 menos, 10 más y 10 menos.			

De antemano

Muchas gracias por gran apoyo y colaboración.