







<b>Asignatura:</b> Matemáticas	
<b>Docente</b> : Claudia Honorato S.	<b>Curso:</b> 5º Básico A
<b>Objetivo de Aprendizaje:</b> OA7 1º Básico Determinar las unidades y decenas en números del 0 al 100, agrupando de 10, de manera concreta, pictórica y simbólica.	
<b>Contenido:</b> Números, determinación del valor representado por cada dígito, de acuerdo a su posición en relación a unidades y decenas.	
<b>Habilidad :</b> Identificar unidades y decenas de números hasta 70.	
<b>Semana N° 28</b> (Lunes 26 al Viernes 30 de Octubre del 2020)	

Horario online				
Lunes	Martes	Miércoles	Jueves	Viernes
Retroalimentación con el apoderado.	Lenguaje		Matemáticas 10:30 a 11:15 hrs	Historia/ Cs Naturales
	Inglés		Ed Física	

1.- Te **recuerdo** que continuamos con las clases online, la asignatura de Matemáticas, son los Jueves de las 10:30 a 11:15 hrs, por lo que debes conectarte en ese horario y tener tus materiales de trabajo.



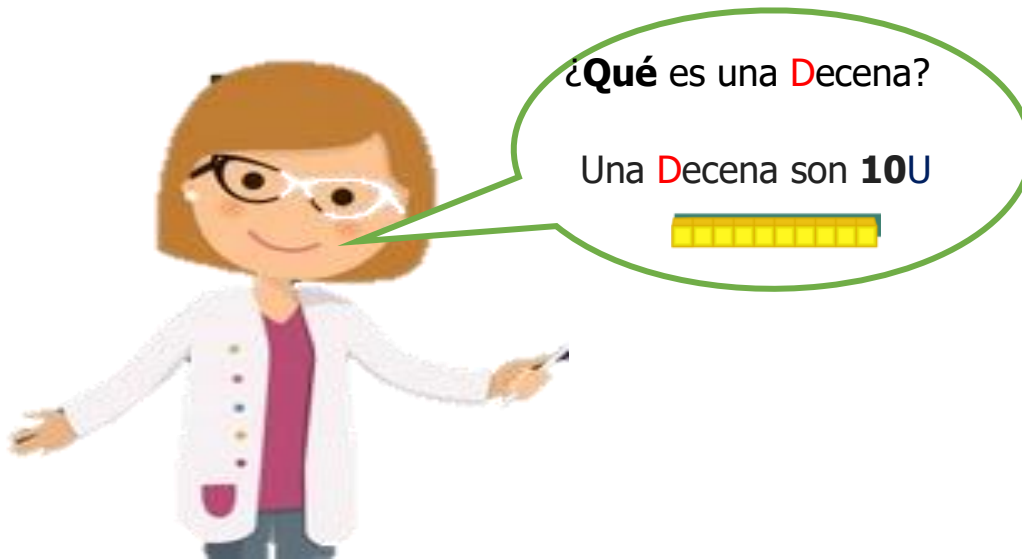
## ¿Qué aprenderé en Octubre?

 <b>1, 2, 3 ..... 100</b>		 = número 30 treinta	
Los números hasta 100.	Problemas de razonamiento matemático.	Unidades y decenas hasta 70	<b>Unidades y decenas Hasta 70.</b>

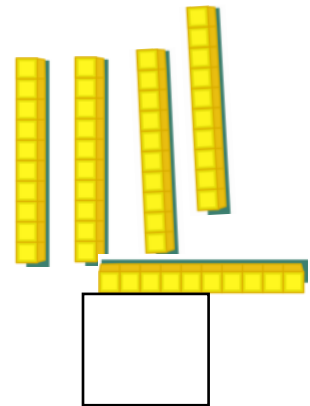
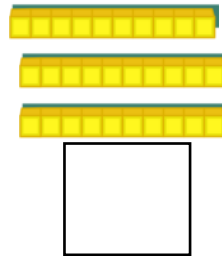
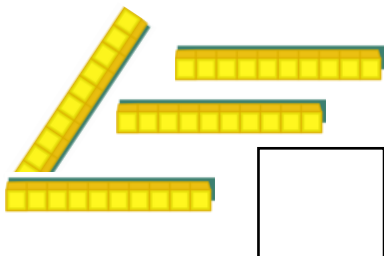
## ¿Qué aprenderé hoy?

Hoy aprenderé a identificar las unidades y decenas de números conocidos.

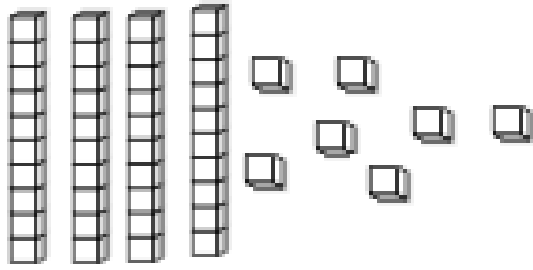
### 2.- Pero primero, **recuerda:**



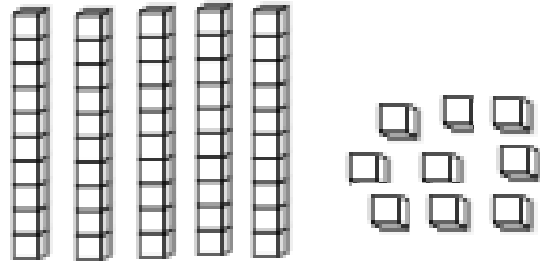
### 3.- ¿Cuántas decenas hay?




4.- Sigamos ¿**Cuántas** decenas y unidades hay?




D	U




D	U



D	U



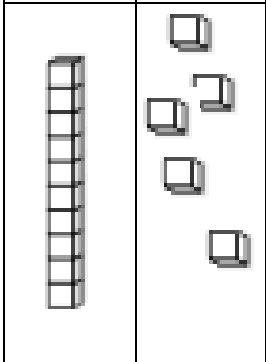
D	U



D	U



5.- Vamos muy bien, representa los siguientes números:

15	D	U
		

24	D	U

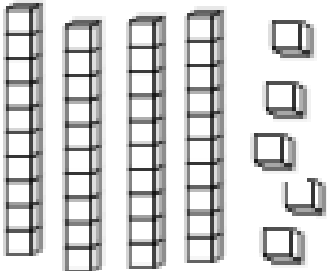
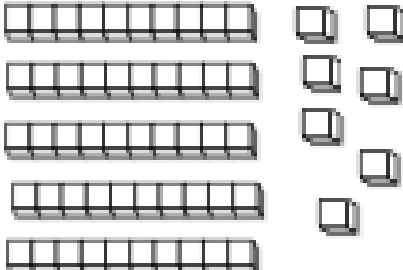

38	D	U

45	D	U

50	D	U

41	D	U

6.-Ahora **encierra** la cantidad de  necesarios para representar cada número dado.

33	47	20
		



7.- Completa la siguiente tabla con las decenas y unidades según corresponda.

Número	Decenas D	Unidades U
9	0	9
12	1	2
16		
19		
23		
28		
35		
39		
40		
44		
47		
55		
56		
61		
63		
69		
70		

8.- **Piensa y escribe** el número que corresponde:

D	U	Número
2	6	26
1	3	
3	4	
4	0	
4	9	
5	1	



Y no olvides sacar fotos de la guía terminada y enviarlas al whatsapp de la profesora.



**Tú siempre puedes**



## Matemáticas Semana 29

Fecha: Lunes 26 al Viernes 30 de Octubre del 2020

Nombre del colaborador: \_\_\_\_\_

Fecha de la Evaluación: \_\_\_\_\_

Se solicita evaluar el desempeño de su hijo/a según lo observado por usted, en esta guía. Marcar con una X su evaluación.

Indicador	Con mucha dificultad 1	Con algo de dificultad 2	Sin dificultad 3
<b>Responsabilidad, disposición</b>			
Reúne los materiales antes de iniciar la guía.			
Realiza la guía con buena disposición.			
Se da cuenta de sus errores.			
Corrige los errores.			
Realiza la guía en los tiempos dados por el adulto.			
<b>Del contenido</b>			
Identifica la decena y la unidad de un número dado.			
Dibuja decenas y unidades según número dado.			
Identifica en un número cual es la decena y la unidad.			

De antemano

Muchas gracias por gran apoyo y colaboración.