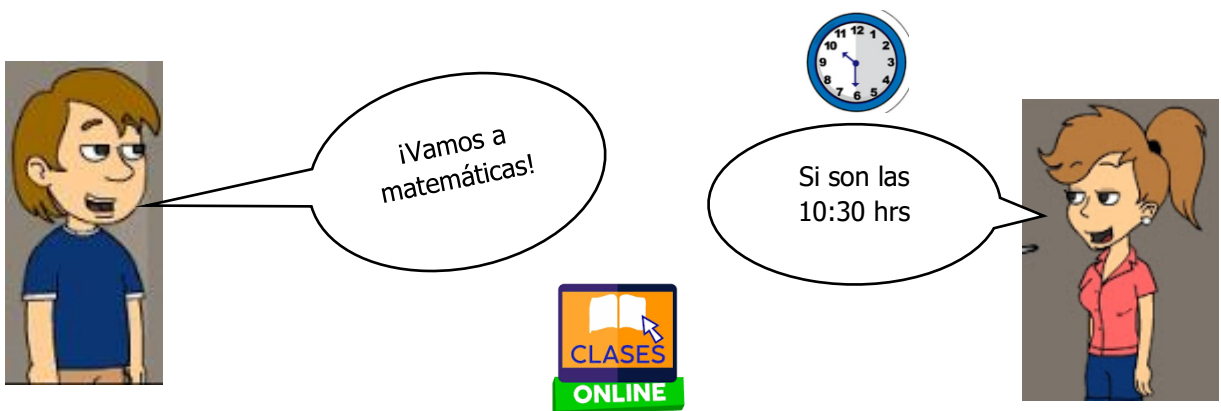








<b>Asignatura:</b> Matemáticas	
<b>Docente</b> : Claudia Honorato S.	<b>Curso:</b> 5º Básico A
<b>Objetivo de Aprendizaje:</b> OA7 1º Básico Determinar las unidades y decenas en números del 0 al 20, agrupando de 10, de manera concreta, pictórica y simbólica.	
<b>Contenido:</b> Números, determinación del valor representado por cada dígito, de acuerdo a su posición en relación a unidades y decenas.	
<b>Habilidad :</b> Identificar unidades y decenas.	
<b>Semana N° 25</b> (Lunes 28 de Septiembre al Viernes 02 de Octubre del 2020)	

Horario online				
Lunes	Martes	Miércoles	Jueves	Viernes
Retroalimentación con el apoderado.	Lenguaje		Matemáticas 10:30 a 11:15 hrs	Historia/ Cs Naturales
	Inglés		Ed Física	

- 1.- Te **recuerdo** que continuamos con las clases online, la asignatura de Matemáticas, son los Jueves de las 10:30 a 11:15 hrs, por lo que debes conectarte en ese horario y tener tus materiales de trabajo.



## ¿Qué aprenderé en Septiembre?

 <b>1, 2, 3 ..... 50</b>		 = número 30 treinta	
Los números hasta 50.	Problemas de razonamiento matemático.	Unidades y decenas hasta 30	<b>Unidades y decenas Hasta 50.</b>

## ¿Qué aprenderé hoy?


Hoy voy a identificar las unidades y decenas de números conocidos.

### 2.- Pero primero, **recuerda:**

¿Qué es una **decena**?

Una **decena** es una agrupación de 10 unidades.


1 **Decena** = 10 Unidades




3.- Sigamos ¿**Cuántas** decenas y unidades hay?




D	U




D	U



D	U



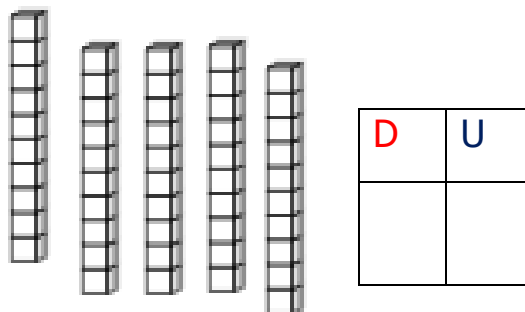
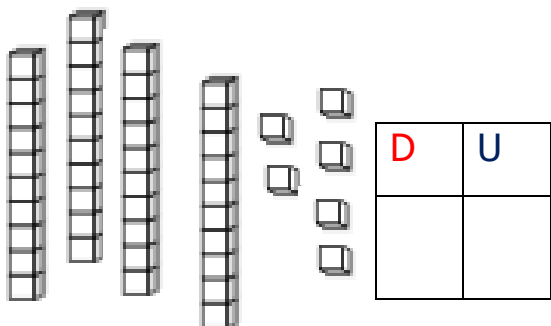
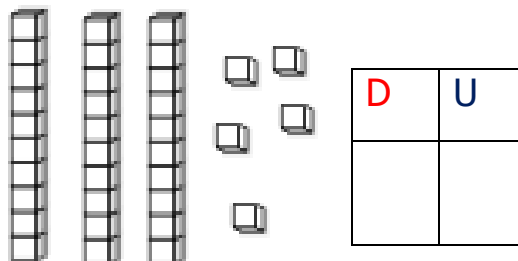
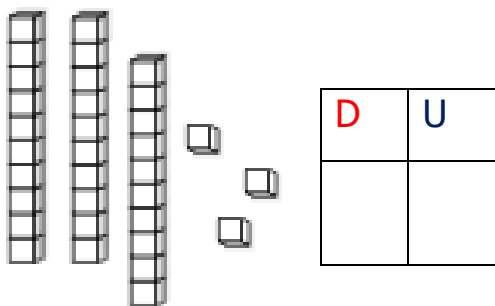
D	U



D	U



4.- Y ahora, **cuenta** las decenas y unidades, luego escribe el número en el tablero posicional.



5.- Sigamos, **completa** según las unidades U y decenas D dadas.

D	U
1	8

D	U
3	7

D	U
4	5



D	U
2	6

D	U
3	0

D	U
4	9

D	U
3	7

D	U
5	0



Y para terminar **representa** los siguientes números:

29

40

33

D	U

D	U

D	U

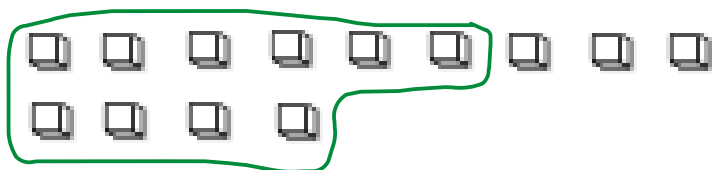
Recuerda, cuando termines la guía sácale fotos y envíalas al whatsapp de la profesora Claudia.

## Solucionario Matemáticas

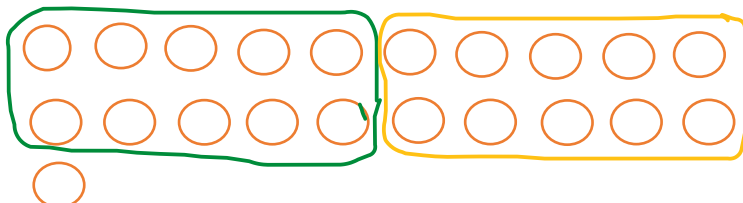
Semana 25 :Lunes 28 de Septiembre al Viernes 2 de Octubre del 2020

**Revisa** con ayuda del papá o la mamá:

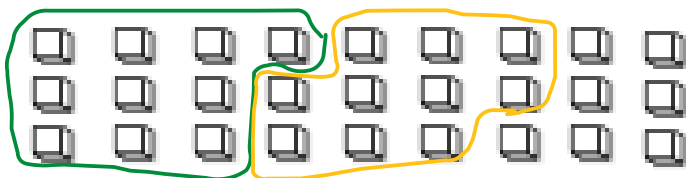
3.- Sigamos ¿Cuántas decenas y unidades hay?



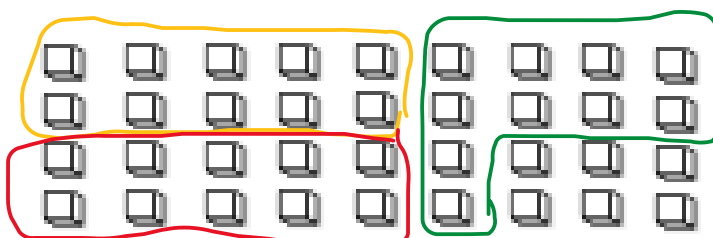
D	U
1	3



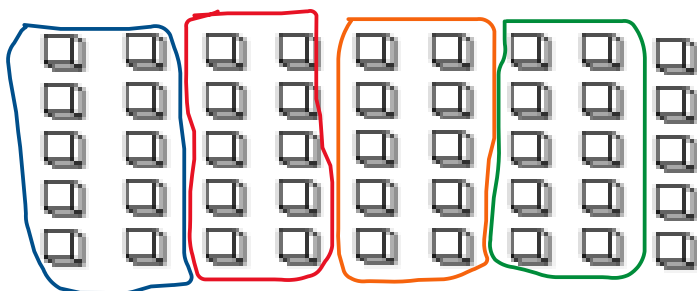
D	U
2	1



D	U
2	7


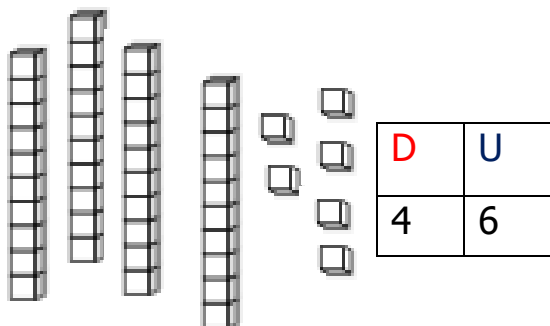
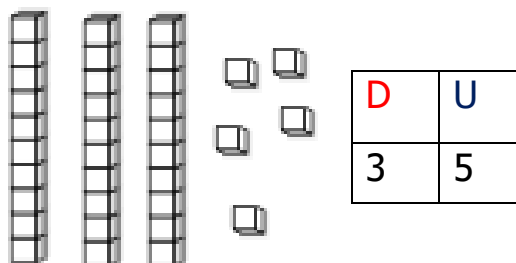
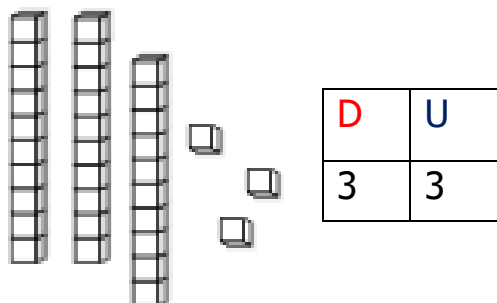


D	U
3	6

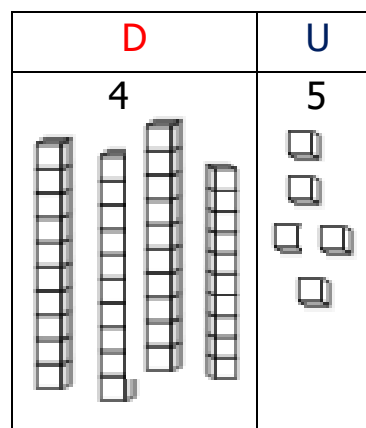
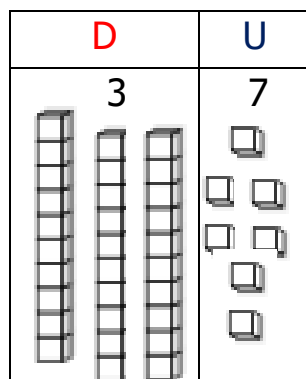
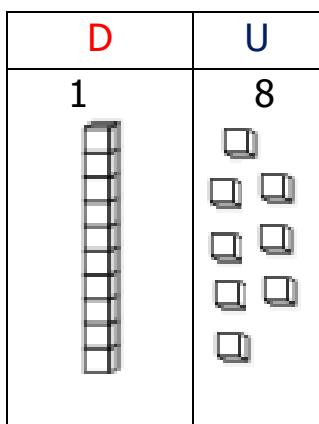


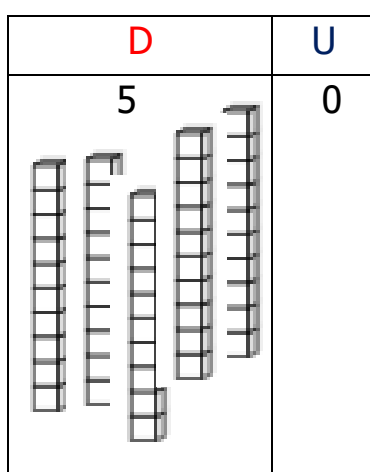
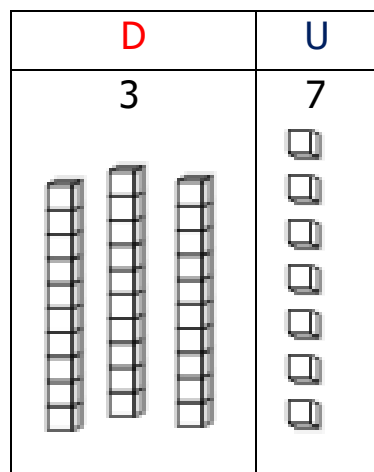
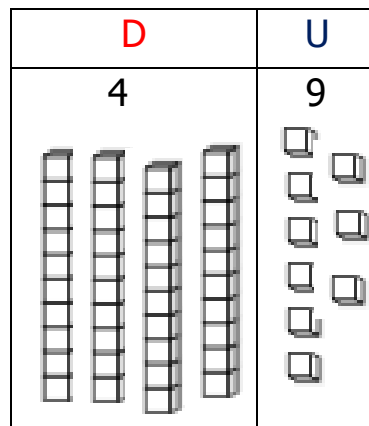
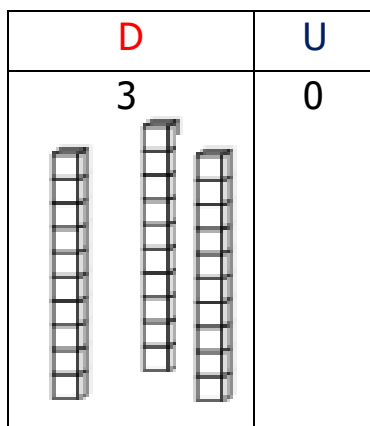
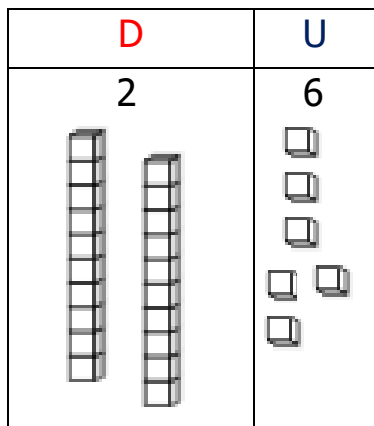
D	U
4	5

4.- Y ahora, **cuenta** las decenas y unidades, luego escribe el número en el tablero posicional.



5.- Sigamos, **completa** según las unidades U y decenas D dadas.



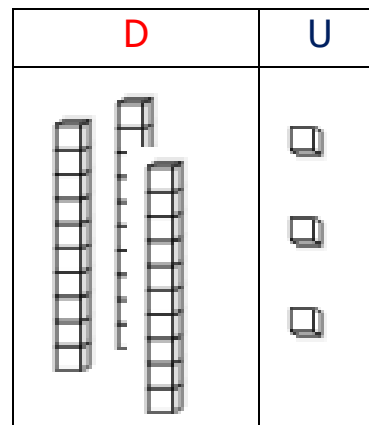
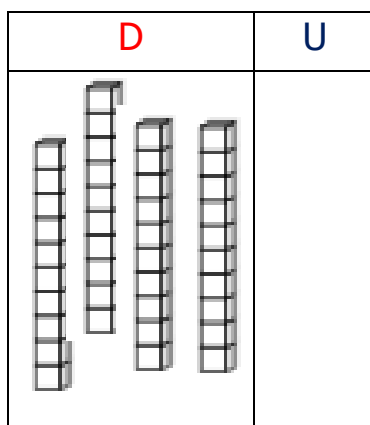
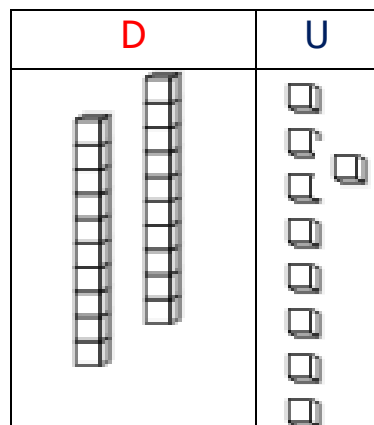


Y para terminar **representa** los siguientes números:

29

40

33







## Matemáticas Semana 25

Fecha: Lunes 28 de Septiembre al Viernes 2 de Octubre del 2020

Nombre del colaborador: \_\_\_\_\_

Fecha de la Evaluación: \_\_\_\_\_

Se solicita evaluar el desempeño de su hijo/a según lo observado por usted, en esta guía. Marcar con una X su evaluación.

Indicador	Con mucha dificultad 1	Con algo de dificultad 2	Sin dificultad 3
<b>Responsabilidad, disposición</b>			
Reúne los materiales antes de iniciar la guía.			
Realiza la guía con buena disposición.			
Se da cuenta de sus errores.			
Corrige los errores.			
Realiza la guía en los tiempos dados por el adulto.			
<b>Del contenido</b>			
Identifica la decena y la unidad de un número dado.			
Forma decenas y unidades según número dado.			
Representa números dados en sus unidades y decenas.			

De antemano

Muchas gracias por gran apoyo y colaboración.