




Asignatura: Matemáticas	
Docente : Claudia Honorato S.	Curso: 5º Básico A
Objetivo de Aprendizaje: Demostrar que comprenden la adición y la sustracción de números del 0 al 30. Comparar y ordenar números hasta 30	
Contenido : Números, elaboración de estrategias para el cálculo escrito de adiciones y sustracciones; , comparación y ordenación de números.	
Habilidad: Resolver adiciones y sustracciones sin canje. Comparar y ordenar números.	
Semana Nº: 10 (Lunes 1º al Viernes 5 de Junio del 2020)	

Antes de comenzar ¿Qué veremos durante el mes de Junio?
Mira y comenta con ayuda del papá o mamá.

Mes de Junio			
 1, 2, 3 50	$\begin{array}{r} +8 \\ 2 \\ \hline \end{array} \quad \begin{array}{r} -8 \\ 2 \\ \hline \end{array}$		
Los números hasta 50.	las sumas y restas sin reserva hasta el 30.	problemas de razonamiento matemático.	de las secuencias de patrones de figuras geométricas y números.



¿Qué es la adición?

La adición o suma, consiste en agregar cantidades hasta obtener un resultado.

Por ejemplo:

$$1 + 5 = 6$$

¿Qué es sustracción?

La sustracción o resta, consiste en sacar una parte de un todo o número dado.

Por ejemplo:

$$6 - 1 = 5$$

1.- Ahora resuelve las siguientes **adiciones**,
recuerda empiezas por las unidades **U**:

✓ Pone una flecha sobre las unidades y resuelve

	D	U
	1	5
+	1	2

	D	U
	2	3
+	2	0

	D	U
	3	4
+	1	2

✓ Escribe los 3 resultados:

_____ , _____ , _____

✓ Ordena los resultados de menor a mayor

_____ , _____ , _____

✓ ¿Qué número es el menor?

✓ ¿Qué número es el mayor?

✓ Inventa una adición:

	D	U
+		

¡Deja pensar!



2.- Ahora resuelve las siguientes **sustracciones**,
recuerda empieza por las unidades **U**:

✓ Pone una flecha sobre las unidades y resuelve

	D	U
	3	5
-	1	1

	D	U
	2	3
-	1	3

	D	U
	3	8
-	1	2

✓ Escribe los 3 resultados:

_____ , _____ , _____

✓ Ordena los resultados de menor a mayor

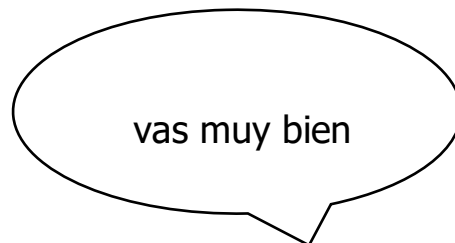
_____ , _____ , _____

✓ ¿Qué número es el menor?

✓ ¿Qué número es el mayor?

✓ Inventa una sustracción:

	D	U
-		



Solucionario: Matemáticas

Semana 10 : del Lunes 1º al Viernes 5 de Junio del 2020

Revisa con la ayuda del **mamá** o papá.

Coloca un visto a las respuestas correctas y si no intenta de nuevo.

1. Adiciones

	D	U
	1	5
+	1	2
	2	7

	D	U
	2	3
+	2	0
	4	3

	D	U
	3	4
+	1	2
	4	6

✓ Escribe los 3 resultados:

27 , 43 , 46

✓ Ordena los resultados de menor a mayor

27 , 43 , 46

✓ ¿Qué número es el menor?

27

✓ ¿Qué número es el mayor?

46

2.-Sustracciones

	D	U
	3	5
-	1	1
	2	4

	D	U
	2	3
-	1	3
	1	0

	D	U
	3	8
-	1	2
	2	6

✓ Escribe los 3 resultados:

24 , 10 , 26

✓ Ordena los resultados de menor a mayor

10 , 24 , 26

✓ ¿Qué número es el menor?

10

✓ ¿Qué número es el mayor?

26

Matemáticas

Fecha del Lunes 1º al Viernes 5 de Junio del 2020

Nombre del colaborador: _____

Fecha de la Evaluación: _____

Se solicita evaluar el desempeño de su hijo/a según lo observado por usted, en esta guía. Marcar con una X su evaluación.

Indicador	Con mucha dificultad 1	Con algo de dificultad 2	Sin dificultad 3
Responsabilidad, disposición			
Reúne los materiales antes de iniciar la guía.			
Realiza la guía con disposición.			
Se da cuenta de sus errores.			
Corrige los errores.			
Realiza la guía en los tiempos dados por el adulto.			
Del contenido			
Resuelve las adiciones.			
Resuelve las sustracciones.			
Responde a las preguntas relacionadas con el resultado de la adición.			
Responde a las preguntas relacionadas con el resultado de la sustracción.			

De antemano Muchas Gracias por gran apoyo y colaboración.