



Unidades-Decenas

Profesora : Claudia Honorato Santander

Curso : 5 Básico A

Día: _____ Mes: _____ Año _____

1.-Piensa  y representa las unidades U y decenas D :



D	U
1	5
	



D	U
	7



D	U
1	9

D	U
	9

2.- Piensa 

D	U
	
1	

D	U
	

D	U
	

Operatoria

Profesora : Claudia Honorato Santander

Curso : 5 Básico A

1.-Piensa  y resuelve la suma $\overset{+8}{\underline{\quad}}_2$

	D	U
	2	1
+	4	6

	D	U
	4	1
+	3	7

	D	U
	2	3
+	4	6

	D	U
	6	1
+	1	5

	D	U
	3	3
+	3	3

	D	U
	3	8
+	3	1

	D	U
	2	6
+	4	2

	D	U
	1	8
+	4	0

2.- Piensa  y resuelve la resta $\overset{-8}{\underline{\quad}}_2$

	D	U
	5	9
-	4	9

	D	U
	5	7
-	3	5

	D	U
	7	8
-	4	4

	D	U
	6	5
-	4	3

	D	U
	5	0
-	3	0

	D	U
	7	6
-	1	3

	D	U
	4	9
-	2	6

	D	U
	3	6
-	3	4

Buena suerte



