







**Colegio**  
**Ricardo Olea**  
CORMUN RANCA GUA

<b>Asignatura: Matemáticas</b>	
<b>Docente: Claudia Heredia S.</b>	<b>Curso: 4° Básico A</b>
<b>Objetivo de aprendizaje:</b> ( OA Ed. Parvularia) Identificar las figuras geométricas.	
<b>Contenido:</b> Figuras geométricas	
<b>Habilidad:</b> Identificar, Reconocer, Inferir	
<b>Semana N°: 21</b> (Periodo desde Lunes 24 al 28 de Agosto 2020)	

<b>HORARIO SEMANAL SUGERIDO</b>				
				
<b>LUNES</b>	<b>MARTES</b>	<b>MIÉRCOLES</b>	<b>JUEVES</b>	<b>VIERNES</b>
<b>REPASO SEMANA ANTERIOR</b> 90 MINUTOS (Individual)	<b>LENGUAJE</b> 45 MINUTOS (Envío de capsula complementaria referente a asignatura)	<b>MATEMÁTICA</b> 45 MINUTOS (Envío de capsula complementaria referente a asignatura)	<b>CIENCIAS NATURALES</b> 45 MINUTOS (Envío de capsula complementaria referente a asignatura)	<b>HISTORIA</b> 45 MINUTOS (Envío de capsula complementaria referente a asignatura)






¡Hola!

¿Recuerdas la actividad anterior?

Sí... Hemos visto las formas geométricas como el:



**Triángulo   círculo   cuadrado   y   rectángulo**


Ahora que ya las recuerdas continuaremos esta semana trabajando con todas ellas.

Para comenzar te invito a ver este entretenido video:

<https://www.youtube.com/watch?v=65wZuz-8u-k>

Luego y junto a la familia recortaran formas geométricas en papel lustre, cartulina u hojas de revistas y harán un bonito paisaje. A continuación te dejo algunos ejemplos para que elijas el que más te guste.

Домик в деревне



Para finalizar pegaras las figuras geométricas que correspondan en el material didáctico que te enviare a casa.

### **Actividad para los padres o apoderados:**

A continuación, se solicita evaluar en esta pauta el desempeño de su hijo/a. Lea atentamente y luego marque con una **X** su evaluación. Cuando finalice, enviar fotografía a mi whatsapp. Y guardar la guía para cuando nos volvamos a ver.

### **Pauta de evaluación**

<b>INDICADORES</b>	<b>Sin dificultad</b>	<b>Con un poco de dificultad</b>	<b>Con mucha dificultad</b>
Identifica el cuadrado			
Identifica el rectángulo			
Identifica el círculo			
Identifica el triángulo			