







Colegio
Ricardo Olea
CORMUN RANCA GUA

Asignatura: Matemáticas	
Docente: Claudia Heredia S.	Curso: 4° Básico A
Objetivo de aprendizaje: (OA Ed. Parvularia) Identificar las figuras geométricas.	
Contenido: Figuras geométricas	
Habilidad: Identificar, Reconocer, Inferir	
Semana N°: 19 (Periodo desde Lunes 10 al 14 de Agosto 2020)	

HORARIO SEMANAL SUGERIDO				
				
LUNES	MARTES	MIÉRCOLES	JUEVES	VIERNES
REPASO SEMANA ANTERIOR 90 MINUTOS (Individual)	LENGUAJE 45 MINUTOS (Envío de capsula complementaria referente a asignatura)	MATEMÁTICA 45 MINUTOS (Envío de capsula complementaria referente a asignatura)	CIENCIAS NATURALES 45 MINUTOS (Envío de capsula complementaria referente a asignatura)	HISTORIA 45 MINUTOS (Envío de capsula complementaria referente a asignatura)





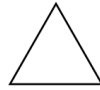
¡Hola!

¿Recuerdas la actividad anterior?

Sí... Identificamos figuras geométricas, el círculo




y el triángulo



Esta semana continuaremos con dos formas más, el cuadrado



Y el rectángulo



Para comenzar continuaremos viendo y reconociendo las figuras geométricas en este simpático video que te dejo a continuación.

<https://www.youtube.com/watch?v=8EooNSe0oA4>


Cuadrado y rectángulo



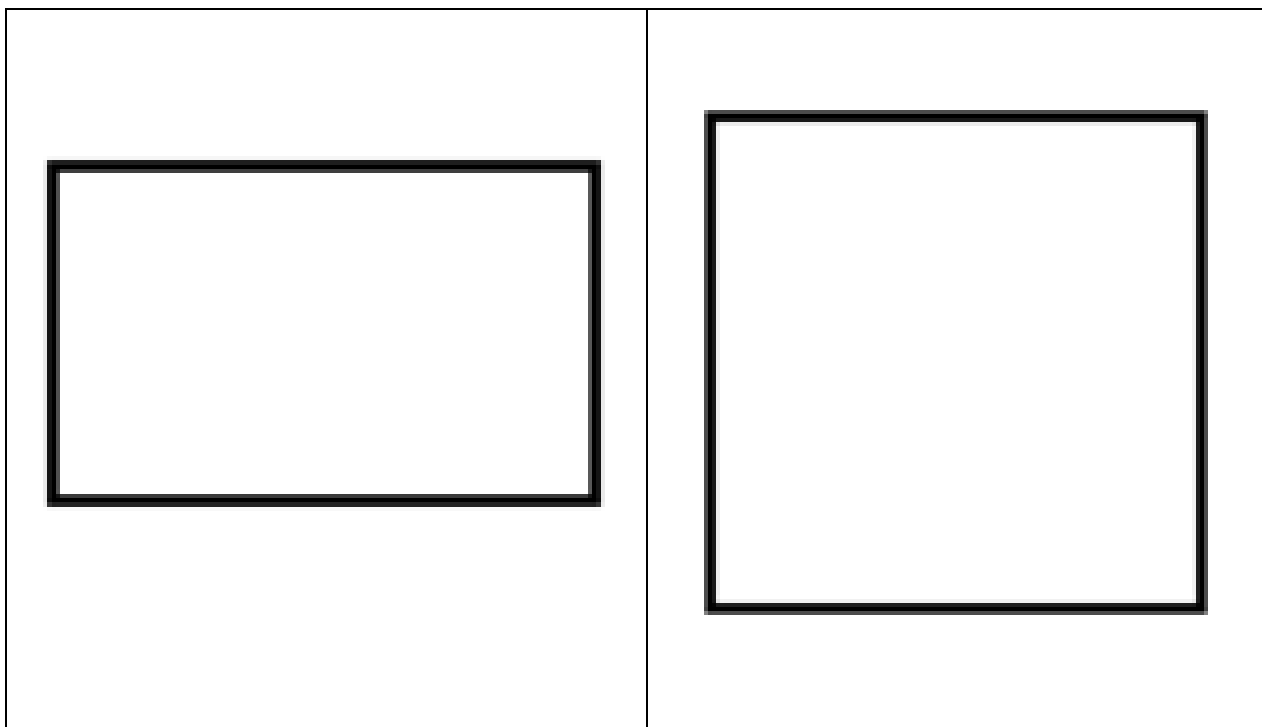
Estas figuras geométricas o también llamadas formas se parecen entre sí, ya que ambas tienen 4 lados.

La diferencia radica que en el cuadrado todos sus lados miden lo mismo, mientras que en los rectángulos los lados opuestos son iguales y diferentes de los contiguos.

Posteriormente vamos a recortar junto a la familia y luego a pegar el cuadrado y el rectángulo que veras a continuación y ahí podrás darte cuenta de la diferencia que te mencione.



Pega aquí sus recortes:



Para finalizar identifica marcando o señalando cuál de las siguientes figuras son un cuadrado y rectángulo.



Actividad para los padres o apoderados:

A continuación, se solicita evaluar en esta pauta el desempeño de su hijo/a. Lea atentamente y luego marque con una **X** su evaluación. Cuando finalice, enviar fotografía a mi whatsapp. Y guardar la guía para cuando nos volvamos a ver.

Pauta de evaluación

INDICADORES	Sin dificultad	Con un poco de dificultad	Con mucha dificultad
Identifica un cuadro			
Identifica un rectángulo			

¡Muy bien!



Adiós.

